




# LKPD




## Pengelompokan Hewan Berdasarkan Jenis Makanannya

Perhatikan video berikut ini:



Perhatikan materi presentasi berikut ini:



Materi



Materi



# LKPD



## Pengelompokan Hewan Berdasarkan Jenis Makanannya

1

### TEKSFIELD

Hewan yang makanan utamanya rumput ataupun tumbuh-tumbuhan seperti sayuran disebut dengan hewan jenis....

2

### SINGLE CHOICE

Berikut yang bukan merupakan hewan karnivora adalah....

3

### CHECKBOXES

Pernyataan yang benar adalah...

☐

Herbivora adalah hewan pemakan tumbuhan

☐

Karnivora adalah hewan pemakan tumbuhan

☐

Omnivora adalah hewan pemakan segalanya

4

### SELECT

Makanan hewan di bawah ini adalah....

☐

Daging

☐

Tumbuhan

☐

Serangga

☐

Segalanya



# LKPD



## Pengelompokan Hewan Berdasarkan Jenis Makanannya

5

### WORD SEARCH

Temukan 3 kata pada kotak berikut!

D	K	I	Z	L	Q	R
V	A	A	Q	J	D	U
E	G	G	C	Y	R	M
I	A	Y	I	N	A	P
Q	V	Q	W	N	J	U
N	T	P	B	U	G	T
C	T	A	J	A	M	P

6

### SPEAK




Sebutkan hewan jenis apa yang memakan makanan di samping ini dengan tepat!



7

### Listening

Dengarkan suara berikut dan tuliskan jawabannya dengan tepat!







# LKPD



## Pengelompokan Hewan Berdasarkan Jenis Makanannya

8

### DRAG & DROG

Tentukan jenis hewan yang sesuai dengan gambar berikut!



Omnivora

Herbivora

Karnivora

9

### JOIN

Buatlah garis ke jawaban yang benar!

Karnivora

Omnivora

Herbivora

Gigi geraham yang lebar

Gigi Taring

Gigi Seri, Gigi Taring, dan Gigi Geraham