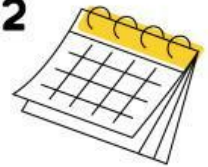




PENILAIAN PBD MATEMATIK TAHUN 2



A. Soalan Objektif (10 Soalan)

Jawab semua soalan. Bulatkan jawapan yang betul.

1 Tulis nombor “lapan ratus dua puluh satu” dalam angka.

- a) 812
- b) 821
- c) 881

2 Tulis nombor 706 dalam perkataan.

- a. Tujuh puluh enam
- b. Tujuh ratus enam
- c. Tujuh belas

3 **364**

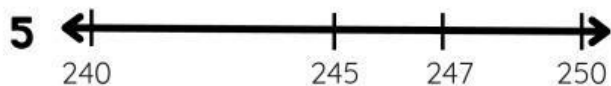
Apakah nilai digit 6 dalam nombor 364?

- a) 600
- b) 60
- c) 6

4 **528**

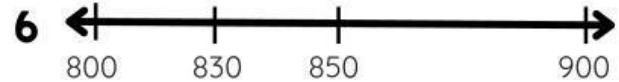
Apakah nilai tempat bagi digit 2 dalam nombor 528?

- a) ratus
- b) puluh
- c) sa



Bundarkan nombor 247 kepada puluh terdekat...

- a) 240
- b) 245
- c) 250



Bundarkan nombor 830 kepada ratus terdekat.

- a) 800
- b) 830
- c) 900

7 Antara nombor berikut, yang manakah paling besar?

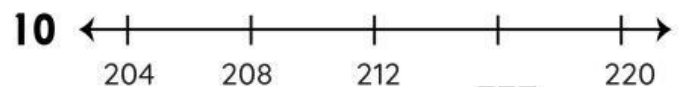
- a) 791
- b) 179
- c) 917

8 Apakah nombor selepas 399?

- a) 400
- b) 401
- c) 412

9 Nombor manakah disusun mengikut tertib menaik?

- a) 126, 162, 216
- b) 216, 162, 126
- c) 162, 126, 216



Apakah nombor yang hilang?

- a) 213
- b) 214
- c) 216

B. Soalan subjektif (10 Soalan)
Selesaikan bentuk lazim, kemudian tulis nombor dalam perkataan

a	b	c	d	e
$\begin{array}{r} 215 \\ + 418 \\ \hline 633 \end{array}$	$\begin{array}{r} 215 \\ + 605 \\ \hline \end{array}$	$\begin{array}{r} 328 \\ - 110 \\ \hline \end{array}$	$\begin{array}{r} 864 \\ - 128 \\ \hline \end{array}$	$\begin{array}{r} 309 \\ + 298 \\ \hline \end{array}$
f	g	h	i	j
$\begin{array}{r} 7 \\ \times 7 \\ \hline \end{array}$	$\begin{array}{r} 9 \\ \times 3 \\ \hline \end{array}$	$\begin{array}{r} 2 \\ \times 2 \\ \hline \end{array}$	$\begin{array}{r} 4 \\ \times 5 \\ \hline \end{array}$	$\begin{array}{r} 3 \\ \times 6 \\ \hline \end{array}$

- a enam ratus tiga puluh tiga
- b
- c
- d
- e
- f
- g
- h
- i
- j