

# LKPD

## BANGUN DATAR SEGI EMPAT

Perhatikan video berikut ini:



Perhatikan materi presentasi berikut ini:



Materi



Materi

# LKPD

## BANGUN DATAR SEGI EMPAT

1

### TEKSFIELD

Sebutkan salah satu contoh bangun datar segi empat yang memiliki keempat sisi sama panjang!

2

### SINGLE CHOICE

Berikut yang bukan merupakan bangun datar adalah...

3

### CHECKBOXES

Ciri-ciri dari persegi panjang adalah...

☐

Memiliki empat sudut siku-siku

☐

Semua sisi panjangnya sama

☐

Dua sisi berhadapan sama panjang

☐

Tidak memiliki sudut siku-siku

# LKPD

## BANGUN DATAR SEGI EMPAT

4

### SELECT

Pilihlah nama bangun datar yang sesuai dengan gambar dibawah ini....



Persegi



Persegi Panjang



Jajar genjang



Trapesium

5


### WORD SEARCH

Temukan 3 kata pada kotak di bawah ini

S	S	I	S	I
I	U	I	G	H
K	F	D	K	J
U	E	W	U	U
J	N	M	G	T

6

### SPEAK



Sebutkan dan jelaskan secara lisan ciri-ciri salah satu bangun datar segi empat yang anda ketahui!


# LKPD

## BANGUN DATAR SEGI EMPAT

7

### Listening

Dengarkan suara berikut dan tuliskan jawabannya dengan tepat!



8

### DRAG & DROG

Tentukan rumus yang sesuai dengan gambar



L = alas x tinggi

L = sisi x sisi

L = Panjang x lebar

9

### JOIN


Buatlah garis ke jawaban yang benar!



Jajar Genjang



Persegi



Persegi Panjang