


# Lembar Kerja Peserta Didik

# LKPD

## Bangun Datar



Nama :

Kelas :





## Lembar Kerja Peserta Didik (LKPD)

**Kelas : 4**

**Tema : Bangun Datar**

**Sub Tema : Ciri-ciri Bangun Datar**

### Tujuan Pembelajaran

- Peserta didik mampu Menganalisis perbedaan dan persamaan ciri-ciri berbagai bangun datar (segiempat, segitiga, dan segi banyak) berdasarkan panjang sisi, besar sudut, dan simetri.
- Peserta didik mampu Mengevaluasi hasil penyusunan (komposisi) dan penguraian (dekomposisi) bangun datar untuk menentukan keefektifan bentuk penyusunan yang paling tepat.

### Petunjuk :

- Amati gambar disamping
- Isi dengan benar



Nama : .....

Kelas : .....

## Geometri : Bangun Datar


Perhatikan gambar bangun datar dibawah ini. Tuliskan nama bangun datar, beserta jumlah sisi dan diagonalnya.



Nama \_\_\_\_\_

Jumlah sisi \_\_\_\_\_

Jumlah diagonal \_\_\_\_\_



Nama \_\_\_\_\_

Jumlah sisi \_\_\_\_\_

Jumlah diagonal \_\_\_\_\_



Nama \_\_\_\_\_

Jumlah sisi \_\_\_\_\_

Jumlah diagonal \_\_\_\_\_



Nama \_\_\_\_\_

Jumlah sisi \_\_\_\_\_


Jumlah diagonal \_\_\_\_\_



Nama \_\_\_\_\_

Jumlah sisi \_\_\_\_\_

Jumlah diagonal \_\_\_\_\_



Nama \_\_\_\_\_

Jumlah sisi \_\_\_\_\_


Jumlah diagonal \_\_\_\_\_



Nama \_\_\_\_\_

Jumlah sisi \_\_\_\_\_

Jumlah diagonal \_\_\_\_\_



Nama \_\_\_\_\_

Jumlah sisi \_\_\_\_\_

Jumlah diagonal \_\_\_\_\_



Nama \_\_\_\_\_

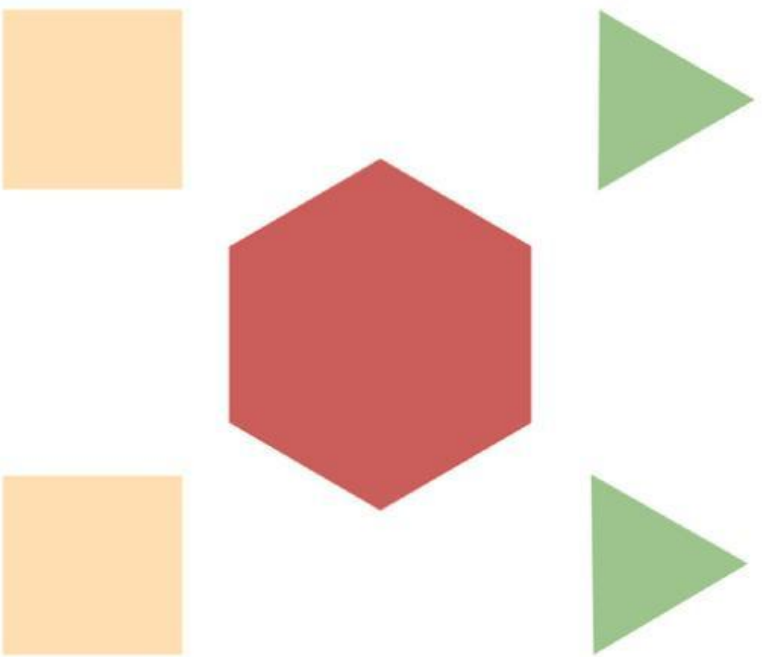
Jumlah sisi \_\_\_\_\_

Jumlah diagonal \_\_\_\_\_

# Menyusun & Mengurai

## Bangun Datar

Geser dan susun bangun datar di bawah ini ke tempat yang telah disediakan hingga bentuknya sesuai.



Nama :

Kelas :

