

Tugas Limas

Jumlah questions: 6

Estimasi pengerjaan: 18menit

Nama

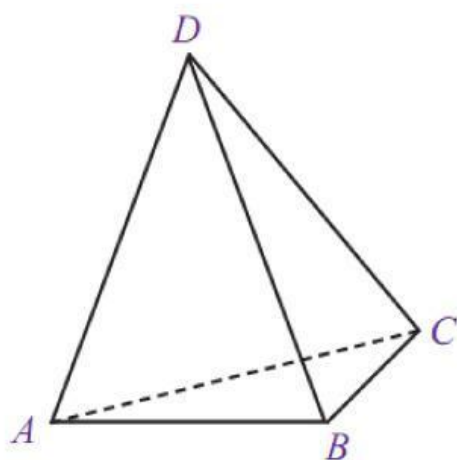
Kelas

Tanggal

1. - memiliki dua alas yang sejajar dan kongruen
- semua sisi tegaknya berbentuk lingkaran
- memiliki titik puncak
- alasnya selalu berbentuk segitiga

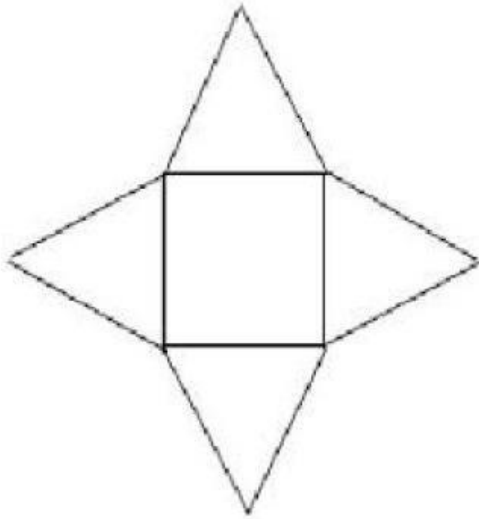
dari pernyataan diatas manakah yang merupakan ciri-ciri limas?

2.



Apakah nama bangun ruang diatas?

3.

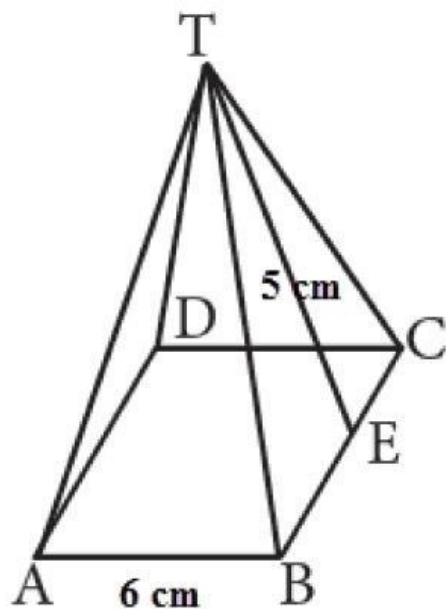


Gambar di atas adalah jaring-jaring

4. Jumlah sisi limas segi lima ada

5. sebuah limas alasnya berbentuk persegi dengan panjang sisi 24cm dan tinggi sisi tengah 15cm. maka volume limas tersebut adalah ... cm^3

6.



Luas permukaan limas pada gambar adalah ...

cm²
