

# LATIHAN SOAL



## BALOK

Balok mempunyai titik sudut sebanyak ?



6 buah



10 buah



8 buah



12 buah

Sebuah balok dengan ukuran panjang 15 dm, lebar 16 dm, dan tinggi 4 dm memiliki volume sebesar?



360  $dm^3$



280  $dm^3$



210  $dm^3$



190  $dm^3$

Andini ingin membuat jaring-jaring balok dari kertas karton. Pola jaring-jaring yang harus digambar Andini ditunjukkan oleh nomor?



(1)



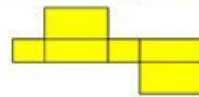
(3)




(2)



(4)




(1)



(2)



(3)



(4)

Diketahui luas permukaan balok  $426cm^2$ . Jika panjang dan lebarnya adalah 12 cm dan 9 cm, berapakah tinggi balok tersebut?



4 cm



6 cm



5 cm



7 cm

Yura mempunyai kotak pensil dengan panjang 20 cm, lebarnya 6 cm, dan tebalnya 5 cm. Berapa volume kotak pensil yang dimiliki Yura?



360  $cm^3$



450  $cm^3$



400  $cm^3$



600  $cm^3$