

Lembar Kerja Peserta Didik

1

2

LKPD

Matematika

Lingkaran dan Unsur-unsur Lingkaran



Nama : _____

Kelas : _____

LINGKARAN

Pilihlah gambar benda yang berbentuk lingkaran

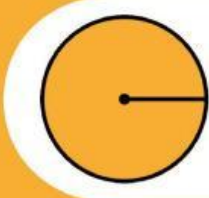


Mengenal LINGKARAN



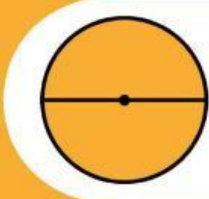
TITIK PUSAT

Titik pusat lingkaran adalah titik yang berada di tengah lingkaran



JARI-JARI

Jari-jari lingkaran adalah garis yang menghubungkan titik pusat ke titik pada lingkaran



DIAMETER

Diameter lingkaran adalah ruas garis yang menghubungkan satu titik ke titik lain pada lingkaran dan ruas garis tersebut melewati titik pusat



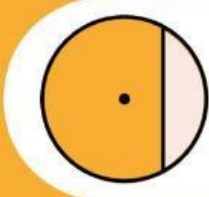
TALI BUSUR

Tali busur lingkaran adalah ruas garis yang menghubungkan ruas garis dari satu titik dengan titik yang lain dalam lingkaran



JURING

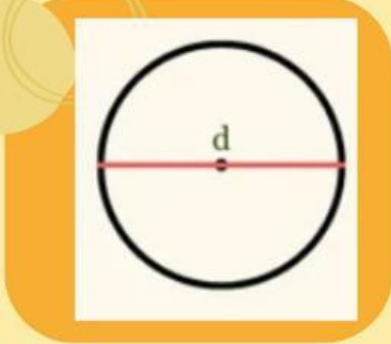
Juring lingkaran adalah luas daerah pada lingkaran yang dibatasi oleh dua buah jari-jari dan busur lingkaran



TEMBERENG

Tembereng lingkaran adalah luas daerah yang berada dalam lingkaran yang dibatasi oleh tali busur dan busur lingkaran

Pasangkan gambar unsur-unsur lingkaran yang tepat dibawah ini



Jari-jari



Tali Busur



Diameter



Titik Pusat