



# LKPD INTERAKTIF

## Cerita Tentang Daerahku

IPAS KELAS IV



Nama : .....

Kelas : .....





# PETUNJUK PENGGUNAAN E-LKPD

1. Bacalah do'a sebelum memulai dan selesai mengerjakan soal !
2. Tuliskan identitasmu disampul E-LKPD
3. Waktu untuk mengerjakan adalah 60 menit!
4. Ikuti setiap arahan dalam E-LKPD ini sesuai dengan membacanya secara seksama dan teliti !
5. Kerjakan tugas-tugas yang ada pada E-LKPD ini sesuai dengan petunjuknya
6. Jika sudah selesai koreksi kembali setiap jawaban agar tidak ada yang terlewat
7. Klik tombol **FINISH** apabila sudah yakin pada jawaban , kemudian akan muncul tulisan **Enter your full name** isilah dengan mengetik nama lengkapmu

**SELAMAT DAN SEMANGAT MENERJAKAN !**

**A. Pilihlah Jawaban yang Paling Tepat di bawah ini!**

**Teks berikut untuk menjawab pertanyaan no 1 sampai dengan no 3 !**

Kerajaan Majapahit berdiri dari tahun 1293 hingga 1527, lahir saat hari penobatan Raden Wijaya sebagai raja pertama. Raden Wijaya bertahta dari awal berdirinya Kerajaan Majapahit hingga 1309, dengan gelar Kertarajasa Jayawardhana. Raja Jayanegara merupakan raja kedua yang memerintah pada tahun 1309-1328. Tribuana Tunggaladewi adalah ratu penguasa ketiga yang memerintah dari tahun 1328-1350. Puncak kejayaan Majapahit dalam menyatukan nusantara terjadi semasa pemerintahan Hayam Wuruk dengan gelar Sri Rajasamudra yang berkuasa pada tahun 1350 hingga 1389. Kepemimpinan Hayam Wuruk begitu kuat karena mendapat dukungan dari Mahapatih Gajah Mada. Kerajaan yang bercorak Hindu di Indonesia ini merupakan salah satu kerajaan terbesar dan berhasil menyatukan nusantara dengan Jatim sebagai pusat pemerintahannya. Kekuasaannya meliputi hingga enam daerah terbesar di Indonesia. Raja Wikramawardhana berkuasa pada tahun 1390 sampai dengan 1428. Peninggalan dari kerajaan Majapahit berupa kitab Negarakertagama, Arjunawiwaha, Pararaton terdapat juga kitab Sutasoma yang digubah oleh pujangga terkenal pada abad ke-14 selain itu peninggalan candi yakni Candi Tikus, Candi Sukuh, Candi Bajang Ratu

- 1. Pilihlah pernyataan berikut yang sesuai dengan informasi penting yang terdapat pada bacaan!**

<b>A.</b>	<b>Kerajaan Majapahit adalah satu – satunya kerajaan terbesar di Indonesia</b>
<b>B.</b>	<b>Puncak kejayaan Majapahit ada pada masa raja Tribuana Tunggaladewi</b>
<b>C.</b>	<b>Kerajaan Majapahit berkuasa selama 234 tahun</b>
<b>D.</b>	<b>Kerajaan Majapahit berdiri dari tahun 1527</b>





**2.**

**Dibawah ini nama raja yang merupakan raja ke-lima dalam kerajaan Majapahit dan berkuasa selama 38 tahun adalah .....**

- A. Wirakrama Wardhana**
- B. Hayam Wuruk**
- C. Raden Wijaya**
- D. Jayanegara**



3. Berikut ini yang merupakan sumber sejarah berbentuk candi pada kerajaan Majapahit, kecuali ....

A.	
B.	
C.	
D.	


4.



Tulisan yang terdapat pada cengkraman kaki burung garuda atau simbol pancasila seperti gambar di samping ini merupakan, salah satu semboyan negara Indonesia tulisan tersebut sudah ada semenjak dahulu dan terdapat pada kitab peninggalan Majapahit yang berjudul ....

A.		C.	
B.		D.	

**5. Perhatikan gambar berikut!**




Semua kenampakan alam bisa dimanfaatkan oleh masyarakat sekitar, untuk membangun sebuah PLTA berdasarkan gambar di atas, sumber daya alam nomor berapakah yang bisa digunakan ....

- A. 1 dan 3
- B. 1 dan 4
- C. 2 dan 3
- D. 3 dan 4

**6.**



Jember merupakan kota penghasil tembakau, namun tidak hanya itu saja gambar di samping merupakan salah satu produk asli perkebunan Jember. Bahan dasar produk tersebut adalah...





Wisata Rembangan terletak di desa Kemuning Lor, Kecamatan Arjasa, Kabupaten Jember, Jawa Timur. Jika kita berkunjung kesana maka kita akan merasakan suhu dingin serta indahnya kota Jember dari atas ketinggian. Tempat ini didirikan pada tahun 1937 saat pemerintahan Hindia Belanda, dahulunya disekitar tempat ini banyak dikelilingi pohon kopi sehingga digunakan sebagai tempat penelitian hasil perkebunan pada zaman Belanda. Dengan seiring perkembangan zaman yang ada, disekitar Rembangan tidak hanya ditumbuhi pohon kopi saja. Ada banyak perkebunan yang sudah dikelola dan ditanami buah-buahan seperti, buah naga yang dijadikan sebagai salah satu agrowisata untuk menarik minat wisatawan, terdapat juga perkebunan buah durian dan kelengkeng.

**7. Berdasarkan teks bacaan di atas pekerjaan apakah yang banyak dilakukan masyarakat disekitar wisata Rembangan .....**

- A. Nelayan**
- B. Masinis**
- C. Teller bank**
- D. Petani**

**8.**



**Pernyataan yang sesuai dengan tanaman tersebut adalah ....**

- A. Tumbuh di dataran tinggi, karena berhawa sejuk.**
- B. Tumbuh di dataran rendah, karena tanah pada dataran rendah lebih kering.**
- C. Tumbuh di sekitar pantai, karena kopi membutuhkan tempat yang dekat dengan air.**
- D. Tumbuh di sekitar sungai, karena kopi membutuhkan tempat yang lembab.**

**9.**



**Bangunan tersebut merupakan salah satu contoh akulturasi. Setuju atau tidak setujuakah kalian dengan pernyataan diatas kemudian pilihlah alasannya sebagai berikut.....**

- A. Setuju, bagunannya masih kental dengan budaya jawa**
- B. Setuju, merupakan tempat ibadah muslim, namun bagunannya seperti dari hindu**
- C. Tidak setuju, Islam dan hindu tidak bisa menjadi kebudayaan baru**
- D. Tidak setuju, termasuk contoh bangunan asimilasi**

10.

Seorang anak muda tinggal di desa sendiri karena kedua orang tuanya meninggal, lalu ia memutuskan untuk pergi ke kota mengadu nasib mencari pekerjaan. Setelah beberapa hari di kota ia tidak menemukan pekerjaan, bahkan ia tidur di trotoar atau di depan toko dan ia terpaksa mengemis untuk membeli makan. Tentunya pemuda tersebut dianggap sebagai pendatang baru yang menimbulkan gangguan dan masalah sosial.

Berilah tanda centang (✓) pada pernyataan yang benar.

Usaha Pemerintah	Benar	Salah
Dibina dan direhabilitasi dinas sosial		
Dititipkan di rumah warga terdekat		
Dikembalikan paksa ke daerah asal		
Diberikan hukuman yang tegas		

B. Silahkan Klik Gambar di Bawah ini Untuk Menjawab Pertanyaan Selanjutnya !



Berdasarkan video tersebut, berikan tanda centang (✓) pada kolom

No.	Pernyataan	Setuju	Tidak Setuju
1	Ratu Tribuwana menjadi pemimpin ke-3 setelah kematian kakak tirinya di tahun 1328		
2	Salah satu penyebab runtuhnya kerajaan Majapahit karena munculnya kerajaan baru yang didirikan anak dari Brawijaya V		
3	Tulisan sumpah palapa yang di ucap patih Gajah Mada menggunakan tulisan aksara jawa		
4	Perang saudara yang menjadi awal menurunnya kerajaan Majapahit dipicu karena kekuasaan		
5	Kerajaan Singasari yang runtuh akibat kerajaan Majapahit merupakan salah satu kerajaan bercorak islam		



**C. Pasangkan dengan menarik garis lurus gambar profesi/pekerjaan pada kolom kiri yang sesuai dengan deskripsi pada kolom kanan!**



Ibu sintia tinggal di daerah dataran rendah karena tanaman yang dihasilkan membutuhkan banyak air. Selain itu juga membutuhkan daerah yang datar, pada daerah yang datar proses pengolahan tanah lebih mudah dilakukan.

Pak Dika adalah orang yang bekerja di bidang pertanian, utamanya dengan cara melakukan pengelolaan tanah dengan tujuan untuk menumbuhkan dan memelihara tanaman sayuran. Biasanya banyak terdapat di daerah tinggi karena udara yang sejuk.

Pak Santo bertempat tinggal di dekat pantai bermata pencaharian sebagai nelayan. Suatu hari kondisi pantainya curam dan tebingnya terjal menyulitkan jika digunakan sebagai pelabuhan ikan. Pada akhirnya beliau bekerja sebagai petani garam.

Pak Badrus bertempat tinggal disekitar hutan, beliau bekerja dengan cara memanfaatkan tanaman di hutan untuk dibuat seperti lemari, meja dan lainnya. Akan tetapi pekerjaan ini membutuhkan izin yang dikeluarkan oleh pejabat yang berwenang

Dea tinggal di desa dengan memelihara peliharaanya. Setiap sore dea pergi ke padang savana beserta peliharaanya.

Pekerjaan yang pak Andre jalani membutuhkan keahlian. Bahkan untuk berkarya di barbershop juga tidak menutup kemungkinan dibutuhkan sertifikat. Pekerjaan andre merupakan salah satu pekerjaan yang bergerak dibidang jasa.