



**SEKOLAH DASAR ISLAM TERPADU (SDIT)
IMAM SYAFII CENDIKIA (ISC)
PEKANBARU – INDONESIA**



Alamat: Jl. SoekarnoHatta, RT. 02/RW. 10, Kel. Maharatu, Kec. Marpoyan Damai, 28125, Pekanbaru-Riau. Telp: 08117595953

Hari / Tanggal : Senin / 15 Maret 2021
Bidang Studi : Tematik
PH Ke / Smtr : 7 / Genap
T. P : 2020 / 2021
Materi : Tema 8

Nama :				
Kelas : V Sa'id Bin Zaid				
KKM	Nilai	Remedi	Paraf	
			Guru	Orang Tua

Jawablah pertanyaan di bawah ini dengan jawaban yang tepat!


PKn 3.3 (KKM 71) | Nilai =

1. Perhatikanlah gambar rumah adat berikut ini !



Rumah Honai merupakan rumah adat dari suku yang berasal dari pulau

- Sumatera
 - Jawa
 - Sulawesi
 - Papua
2. Kunci dari persatuan dan kesatuan yang ada dalam masyarakat Indonesia yang beragam adalah adanya sikap, **kecuali**
- persatuan
 - tanggung jawab
 - toleransi
 - egois
3. Berikut cara melestarikan budaya dan adat istiadat daerah adalah
- mempelajari budaya daerah sendiri saja
 - memakai baju batik dari daerah lain
 - menyaksikan pertunjukkan budaya daerah sendiri saja
 - menghargai budaya yang disukai
4. Perhatikanlah gambar berikut ini!



Upacara Ngaben

Upacara adat di atas berasal dari daerah

- a. Papua
 - b. Sulawesi
 - c. Bali
 - d. Kalimantan
5. Ayah Ahmad bekerja sebagai pengusaha sukses sedangkan Hasan ayahnya bekerja sebagai karyawan kantor biasa. Sikap Ahmad dan Hasan yang menunjukkan menghargai pekerjaan orang lain adalah
- a. Ahmad tidak mau berteman dengan Hasan karena pekerjaan ayahnya berbeda
 - b. Hasan merasa minder berinteraksi dengan Ahmad karena pekerjaan ayahnya hanya karyawan kantor biasa
 - c. Ahmad mengejek pekerjaan ayah Hasan
 - d. Ahmad dan Hasan tetap berteman walau ayah mereka berbeda pekerjaan
6. Manfaat dari mengembangkan sikap saling memahami dan menghargai dalam masyarakat yang beragam adalah . . .
- a. menghindari persatuan antar suku bangsa
 - b. mewujudkan perpecahan antar sesama bangsa Indonesia
 - c. menumbuhkan rasa cinta tanah air
 - d. menjadi modal untuk keberhasilan kesenjangan sosial

Bahasa Indonesia 3.8 (KKM 72) | Nilai =

Bacalah teks berikut untuk menjawab soal nomor 7 - 9 !

Siklus hidrologi diawali oleh terjadinya penguapan air yang ada di permukaan bumi. Air – air yang tertampung di danau, sungai, laut, sawah, bendungan, atau waduk berubah menjadi uap air karena adanya panas matahari. Penguapan serupa juga terjadi pada air yang terdapat di permukaan tanah. Penguapan ini disebut dengan istilah evaporasi. Evaporasi merupakan air berwujud cair menjadi air yang berwujud gas (uap air). . . . uap air menuju atmosfer bumi. Semakin tinggi panas matahari (misalnya saat musim kemarau) jumlah air yang menjadi uap air dan naik ke atmosfer bumi juga akan semakin besar.

7. Teks di atas termasuk teks
- a. fiksi karena berisi khayalan
 - b. fiksi karena bercerita tentang pendapat seseorang
 - c. nonfiksi karena berisi kejadian faktual
 - d. nonfiksi karena bercerita tentang opini seseorang

8. Gagasan pokok pada teks di atas adalah

- a. siklus hidrologi
- b. penguapan air
- c. evaporasi
- d. permukaan bumi

9. Kata penghubung yang tepat untuk mengisi titik – titik pada teks di atas adalah

Evaporasi merupakan air berwujud cair menjadi air yang berwujud gas (uap air).

. . . uap air menuju atmosfer bumi. Semakin tinggi panas matahari (misalnya saat musim kemarau) jumlah air yang menjadi uap air dan naik ke atmosfer bumi juga akan semakin besar.

- a. dan
- b. sedangkan
- c. setelah itu
- d. yang

Bacalah teks berikut untuk menjawab soal nomor 7 - 9 !

Musim kemarau kering bulan Agustus tahun 2012 memicu kebakaran hutan. Kebakaran juga dilaporkan terjadi pada beberapa daerah hutan. Seperti kebakaran di wilayah lereng Pegunungan Sindoro di Kabupaten Temanggung, Jawa Tengah, Senin (20/8/2012) lalu yang mengakibatkan jalur pendakian ditutup beserta areal hutan pinus tua, kawasan hutan lindung di kaki Gunung Ciremai, Kuningan, Jawa Barat (22/8/2012). Potensi kebakaran di pegunungan sangat tinggi. Satu bara api dapat mengakibatkan kebakaran besar, karena faktor angin kencang, yang membuat api seringkali sulit dipadamkan. Ditambah **akses** pegunungan menuju lokasi yang umumnya berat atau terjal.

10. Gagasan pokok pada teks di atas adalah

- a. musim kemarau
- b. hutan pinus tua
- c. pendakian ditutup
- d. hutan lindung

11. Kesimpulan dari teks di atas adalah

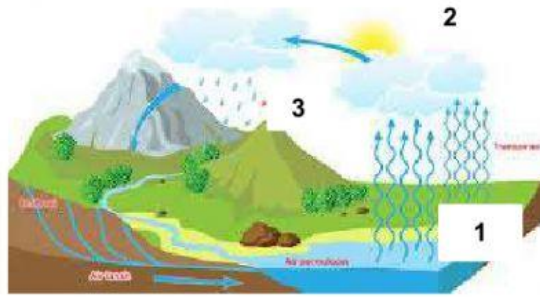
- a. pendakian ditutup karena kebakaran lahan
- b. musim kemarau memicu kebakaran hutan
- c. angin kencang memicu api sulit dipadamkan
- d. akses menuju lokasi berat dan terjal

12. Kata akses pada teks di atas memiliki arti

- a. berita
- b. transportasi
- c. jalan masuk
- d. kendaraan

IPA 3.8 (KKM 71) | Nilai =

Perhatikanlah siklus air berikut ini !



13. Proses yang ditunjuk oleh nomor 1 adalah

- a. evaporasi
- b. infiltrasi
- c. kondensasi
- d. presipitasi

14. Proses yang ditunjuk oleh nomor 2 adalah

- a. evaporasi
- b. infiltrasi
- c. kondensasi
- d. presipitasi

15. Proses yang ditunjuk oleh nomor 3 adalah

- a. evaporasi
- b. infiltrasi
- c. kondensasi
- d. presipitasi

16. Proses masuknya air ke dalam pori-pori tanah disebut

- a. evaporasi
- b. infiltrasi
- c. kondensasi
- d. presipitasi

17. Di bawah ini faktor yang mempengaruhi siklus air dalam tanah adalah, **kecuali**

- a. curah hujan
- b. material batuan
- c. keberadaan hewan
- d. keberadaantumbuhan (vegetasi)

18. Ciri – ciri air yang berkualitas baik adalah, **kecuali**

- a. air tidak berasa
- b. air tidak berbau
- c. memiliki tingkat keasaman yang normal
- d. air memiliki harga yang mahal

IPS 3.3 (KKM 71) | Nilai =

19. Jenis usaha pada gambar di bawah ini adalah



- a. pertanian
- b. pertambangan
- c. perkebunan
- d. perikanan

20. Jenis usaha ekonomi yang sebagian besar modalnya dari negara adalah

- a. BUMN
- b. PT
- c. CV
- d. firma

21. Jenis usaha koperasi merupakan. . . .

- a. modal sebagian besar dari negara
- b. atas asas kekeluargaan dan modal dari simpanan pokok anggota
- c. dikelola oleh anggota aktif dan pasif
- d. memperoleh modal dari penjualan saham yang dilakukan pemilik

22. Pertamina, PLN, dan BNI adalah contoh jenis usaha

- a. koperasi
- b. CV
- c. BUMN
- d. firma

23. Kegiatan ekonomi pada gambar di bawah ini adalah



Penjual daging di pasar tradisional


- a. produksi
- b. konsumsi
- c. distribusi
- d. produsen

24. Contoh kegiatan konsumsi adalah

- a. membeli madu
- b. menjual madu
- c. panen madu
- d. ternak madu

SBdP 3.1 (KKM 71) | Nilai =

25. Pewarna yang digunakan untuk mewarnai gambar di bawah ini adalah



- a. cat air
- b. caryon
- c. pensil warna
- d. cat minyak

26. Langkah pertama dalam membuat gambar cerita adalah

- a. mewarnai gambar
- b. membuat sketsa
- c. membuat tema cerita
- d. menebalkan gambar

27. Teknik mewarnai terbagi menjadi dua, yaitu

- a. teknik cepat dan teknik lambat
- b. teknik langsung dan teknik tidak langsung
- c. teknik basah dan teknik kering
- d. teknik kasar dan teknik halus

28. Pesan dari poster berikut adalah



- a. ayo bersahabat
- b. ayo pakai masker
- c. ayo shalat berjamaah
- d. ayo bersedekah

29. Tema gambar berikut adalah



- a. tumbuhan
- b. hewan
- c. rumah
- d. transportasi

30. Teknik pewarnaan pada gambar berikut adalah



- a. teknik basah
- b. teknik kering
- c. teknik kasar
- d. teknik lembut