

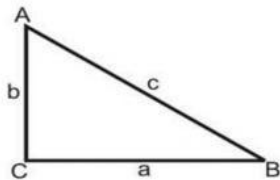


SUMATIF AKHIR SEMESTER T.A 2025/2026

Mata Pelajaran : MATEMATIKA  
Kelas : V (Lima)


Pilihlah salah Satu Jawaban Yang Paling Tepat !

1. Di bawah ini yang bukan termasuk ciri-ciri persegi panjang adalah ..
  - A. Keempat sudutnya siku-siku
  - B. Mempunyai 2 simetri lipat
  - C. Keempat sisinya sama Panjang
  - D. Mempunyai 2 simetri putar
2. Perhatikan gambar berikut ..!



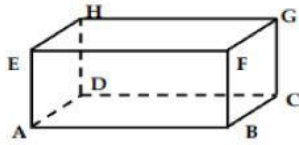
Diketahui  $AC = 12$  cm dan  $BC = 16$  cm, maka panjang AB adalah.... cm

- A. 20
  - B. 30
  - C. 25
  - D. 35
3. Volume rubik di bawah adalah ... kubus satuan.



- A. 3
  - B. 18
  - C. 9
  - D. 27
4. Aisyah mempunyai kotak pensil berbentuk balok dengan panjang 15 cm, lebar 8 cm dan tinggi 4 cm. Volume kotak pensil Aisyah adalah ....  $\text{cm}^3$ 
    - A. 120
    - B. 480
    - C. 240
    - D. 640

5. Perhatikan gambar !



Sisi ABCD sama dan sebangun dengan sisi ...

- A. ABFE
  - B. EFGH
  - C. DCGH
  - D. BCGF
6. Diketahui balok dengan ukuran 12 cm dan tinggi 8 cm. jika volume balok adalah  $672 \text{ cm}^3$  . lebar balok tersebut adalah ....
- A.  $7 \text{ cm}^3$
  - B.  $8 \text{ cm}^3$
  - C.  $9 \text{ cm}^3$
  - D.  $10 \text{ cm}^3$
7. Sebuah kubus memiliki Panjang rusuk 8 cm. Volume kubus tersebut adalah ....
- A.  $216 \text{ cm}^3$
  - B.  $64 \text{ cm}^3$
  - C.  $512 \text{ cm}^3$
  - D.  $343 \text{ cm}^3$
8. Panjang rusuk kubus dengan volume  $10.648 \text{ cm}^3$  adalah ....
- A. 21 cm
  - B. 22 cm
  - C. 31 cm
  - D. 32 cm
9. Volume Balok dengan Panjang 15 cm, lebar 8 cm dan tinggi 10 cm adalah .....
- A.  $1200 \text{ cm}^3$
  - B.  $600 \text{ cm}^3$
  - C.  $66 \text{ cm}^3$
  - D.  $33 \text{ cm}^3$
10. Hasil dari  $9^3$  adalah....
- A. 81
  - B. 243
  - C. 486
  - D. 729

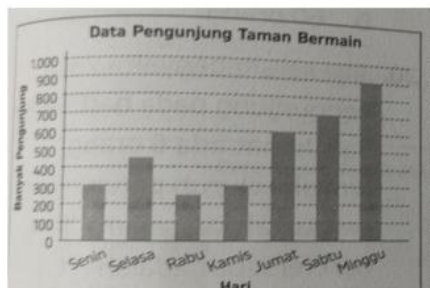
11. Data Calon Ketua Kelas 5

Nama	Banyak Pemilih
Andi	6
Brian	7
Kevin	12
Jordi	15

Banyaknya siswa Kelas 5 yang memilih ada ....

- A. 30 siswa
- B. 35 siswa
- C. 40 siswa
- D. 45 siswa

Perhatikan diagram batang berikut untuk menjawab soal nomor 12-14



12. Jumlah pengunjung paling banyak terjadi pada hari .....

- A. Selasa
- B. Kamis
- C. Sabtu
- D. Minggu

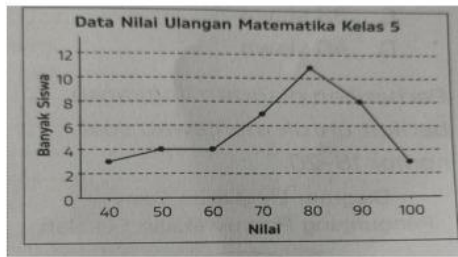
13. Selisih banyaknya pengunjung pada hari selasa dan jumat adalah ..... Orang

- A. 100
- B. 150
- C. 200
- D. 250

14. Jumlah seluruh pengunjung dari hari senin sampai Minggu adalah ..... orang

- A. 3000
- B. 3500
- C. 4000
- D. 4500

Perhatikan diagram garis berikut untuk menjawab soal 15-18



15. Banyaknya siswa yang mendapat nilai 70 ada .....
- A. 4 siswa
  - B. 5 siswa
  - C. 6 siswa
  - D. 7 siswa
16. Banyak siswa yang mendapat nilai tertinggi ada ....
- A. 3 siswa
  - B. 4 siswa
  - C. 5 siswa
  - D. 6 siswa
17. Banyak siswa yang mendapat nilai Diatas 70 ada ....
- A. 20 siswa
  - B. 21 siswa
  - C. 22 siswa
  - D. 23 siswa
18. Jumlah siswa kelas 5 seluruhnya ada ....
- A. 34 siswa
  - B. 36 siswa
  - C. 38 siswa
  - D. 40 siswa
19. Kumpulan informasi yang di peroleh dari hasil pengukuran di sebut .....
- A. Data
  - B. Grafik
  - C. Diagram
  - D. gambar
20. Dalam mengumpulkan data atau survey berikut ini beberapa cara yang dapat dilakukan adalah **kecuali**.....
- A. Wawancara
  - B. Kuesioner
  - C. Penelitian
  - D. Rapat