





Tugas SAS Genap Matematika kelas 4

Perhatikan tabel di bawah ini untuk menjawab soal nomor 1 dan 2 !

Tabel Jumlah buah yang dibeli pak Abdullah di Pasar Selak Bertais

Nama Buah	Banyak Buah
Apel	
Jeruk	
Semangka	
Mangga	

Setiap gambar mewakili 1 buah

- Pak Abdullah membeli buah Jeruk sebanyak ... Buah
A. 5 B. 7 C. 8 D. 9
- Buah yang paling sedikit dibeli Pak Abdullah adalah ...
A. Apel B. Jeruk C. Semangka D. Mangga

Perhatikan tabel di bawah ini untuk menjawab soal nomor 3 dan 4 !

Data inventaris kelas 4 SD IT Abu Hurairah Mataram

Nama Benda	Banyak Benda
Pensil	
Buku	
Rautan	
Penggaris	

Setiap gambar menunjukkan 5 benda

- Jumlah seluruh benda dalam tabel adalah...
A. 100 B. 110 C. 120 D. 130
- Selisih jumlah Rautan dan penggaris adalah...
A. 10 B. 15 C. 20 D. 25

Perhatikan tabel di bawah ini untuk menjawab soal nomor 5 dan 6 !

Data jumlah hewan peliharaan Pak Ahmad

Nama Hewan	Banyak Hewan
Sapi	
Ayam	
Kambing	
Bebek	

Setiap gambar menunjukkan 10 benda

5. Jumlah seluruh hewan di tabel adalah...

- A. 260 B. 255 C. 240 D. 235

6. Gabungan jumlah Ayam dan Sapi adalah...

- A. 130 B. 135 C. 140 D. 150

Perhatikan tabel di bawah ini untuk menjawab soal nomor 7 dan 8 !

Data penjualan alat transportasi pada tahun 2025

Nama Kendaraan	Banyak Kendaraan
Mobil	
Sepeda	
Truk	
Sepeda motor	

Setiap gambar menunjukkan 9 benda

7. Kendaraan dengan jumlah penjualan paling sedikit adalah...





- A. Sepeda C. Sepeda motor
B. Mobil D. Truk

8. Selisih jumlah penjualan antara mobil dan sepeda motor adalah...

- A. 9 B. 27 C. 30 D. 36

Perhatikan tabel di bawah ini untuk menjawab soal nomor 9 dan 10 !

Data jumlah siswa kelas 1 - 4 SD IT Abu Hurairah Mataram

Jenjang Kelas	Banyak Siswa
Kelas 1 SD	
Kelas 2 SD	
Kelas 3 SD	
Kelas 4 SD	

Setiap gambar menunjukkan 12 siswa

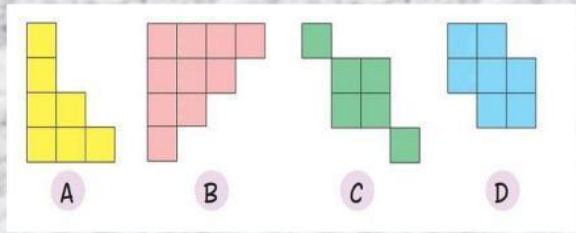
9. Jumlah siswa kelas 3 adalah ...

- A. 94 B. 96 C. 98 D. 132

10. Kelas dengan jumlah siswa paling sedikit adalah...

- A. Kelas 2 SD dengan jumlah siswa 84
B. Kelas 2 SD dengan jumlah siswa 94
C. Kelas 3 SD dengan jumlah siswa 132
D. Kelas 3 SD dengan jumlah siswa 142

Perhatikan gambar berikut untuk menjawab soal nomor 11 – 13 !

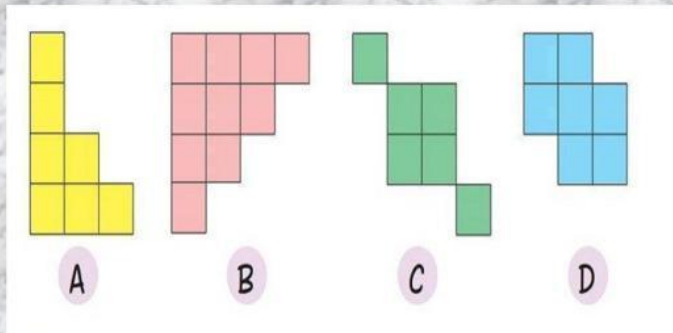


11. Bangun yang luasnya 7 persegi satuan ditunjukkan oleh gambar

- A. A
- B. B
- C. C
- D. D

12. Pernyataan berikut yang benar tentang luas bangun di atas adalah

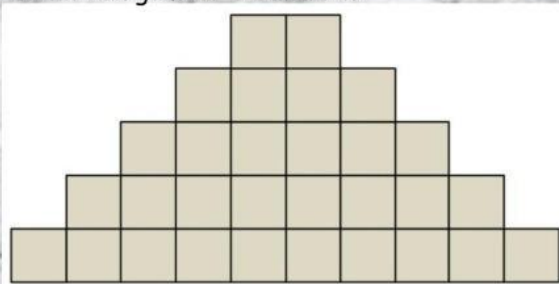
- A. luas bangun A lebih kecil dari pada luas C
- B. luas bangun A sama dengan luas D
- C. luas bangun C paling besar
- D. luas bangun B paling kecil



13. Bangun pada gambar C memiliki luas

- A. 6 persegi satuan
- B. 8 persegi satuan
- C. 9 persegi satuan
- D. 10 persegi satuan

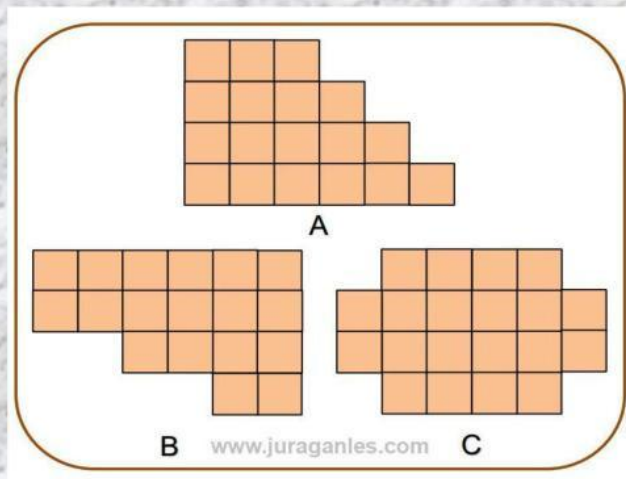
14. Perhatikan gambar dibawah ini



Luas bidang di atas adalah persegi satuan.

- A. 20
- B. 24
- C. 26
- D. 30

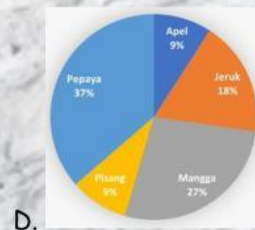

15. Perhatikan gambar dibawah ini !



Pernyataan yang benar berdasarkan gambar bidang di atas adalah

- A. Bidang B luasnya paling besar
- B. Bidang A lebih kecil dari bidang B
- C. Bidang A luasnya paling besar
- D. Bidang C luasnya paling besar

16. Berikut ini yang merupakan diagram batang adalah



Perhatikan Diagram Batang berikut untuk menjawab soal nomor 17 - 19



17. Banyak pengunjung pada bulan Januari adalah

- A. 60 orang
- B. 40 orang
- C. 100 orang
- D. 120 orang

18. Jumlah Pengunjung pada bulan Februari dan Mei adalah ...

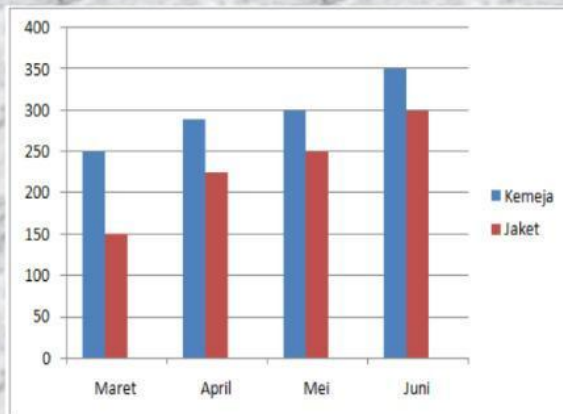
- A. 220
- B. 230
- C. 240
- D. 250

19. Pengunjung perpustakaan paling banyak adalah pada bulan

- A. April
- B. Maret
- C. Mei
- D. Juni

Perhatikan diagram berikut untuk menjawab soal nomor 20 dan 21

Tabel Hasil penjualan kemeja dan jaket di toko Abu Hurairah



20. Hasil penjualan jaket tertinggi terjadi pada bulan ...

- A. Maret
- B. April
- C. Mei
- D. Juni

21. Jumlah hasil penjualan kemeja pada bulan Maret dan mei adalah ...

- A. 250
- B. 300
- C. 350
- D. 550

Perhatikan diagram berikut untuk menjawab soal nomor 22 - 24

Berikut adalah data jumlah stock bunga yang ada pada sebuah toko bunga



22. Jumlah bunga yang paling banyak dengan yang paling sedikit adalah ...

- A. 6
- B. 7
- C. 8
- D. 12

23. Jumlah seluruh bunga yang ada pada toko adalah ...

- A. 10 B. 26 C. 28 D. 36

24. Total jumlah bunga kertas dan matahari adalah ...

- A. 11 B. 12 C. 13 D. 14

25. Perhatikan diagram berikut!

Data Ijazah Terakhir Pegawai PT. Petromak Indonesia

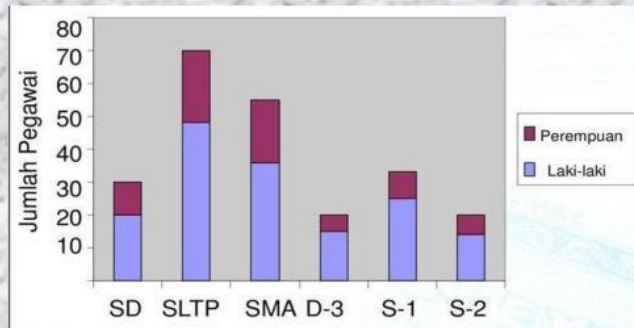


Diagram tersebut merupakan jenis diagram batang ...

- A. tegak C. bertingkat
B. mendatar D. komparatif

26. Perhatikan gambar dibawah ini



Berdasarkan gambar di atas dapat diketahui bahwa volume panci sama dengan volume

- A. 5 buah cangkir C. 7 buah cangkir
B. 6 buah cangkir D. 8 buah cangkir

27. Abdullah membutuhkan 4 gelas air untuk mengisi sebuah botol hingga penuh. Jika botol yang akan diisi Abdullah berjumlah 6 buah, maka jumlah gelas yang dibutuhkan adalah ...

- A. 20 gelas C. 30 gelas
B. 24 gelas D. 35 gelas


28. Perhatikan gambar dibawah ini



Pernyataan yang benar berdasarkan gambar diatas adalah

- A. volume air di wadah B paling sedikit
- B. volume air di wadah B dan D sama besar
- C. volume air di wadah C lebih sedikit dari wadah D
- D. volume air di wadah A lebih banyak dari wadah B


29. Perhatikan gambar berikut !



Jika volume setiap kubus satuan adalah 1 cm^3 , maka volume bangun di atas adalah ... cm^3 .

- | | |
|-------|-------|
| A. 14 | C. 16 |
| B. 15 | D. 17 |

30. Perhatikan gambar berikut !



Jika volume setiap kubus satuan adalah 1 cm^3 , maka volume bangun di atas adalah ... cm^3 .

- | | |
|-------|-------|
| B. 18 | D. 20 |
| A. 17 | C. 19 |