



PEMERINTAH KABUPATEN BLITAR  
KELOMPOK KERJA GURU KELAS V SELOPURO  
**SUMATIF AKHIR SEMESTER II**  
TAHUN PELAJARAN 2024/2025



Mata Pelajaran : Matematika	Nama : .....
Kelas : V (Lima)	Waktu : .....
Sekolah Dasar : .....	Nilai : .....
Hari/Tanggal : .....	

**I. Berilah tanda silang (x) pada huruf a, b, c, atau d pada jawaban yang paling tepat!**

1. Sebuah alat yang berguna untuk mengukur besarnya sudut disebut dengan ...

A. mikroskop  
B. termometer  
C. busur derajat  
D. jangka

2. Perhatikan gambar berikut ini!



Banyaknya sudut lancip pada bangun di samping yaitu ...

A. 3  
B. 4  
C. 5  
D. 6

3. Sudut lurus adalah sudut yang besarnya ...

A. kurang dari  $90^\circ$   
B. lebih dari  $90^\circ$   
C. sama dengan  $90^\circ$   
D. tepat  $180^\circ$

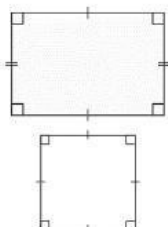
4. Perhatikan gambar berikut ini!



Sudut yang terbentuk dari jarum pendek dan panjang pada jam analog di samping yaitu ...

A. sudut refleks  
B. sudut lancip  
C. sudut siku-siku  
D. sudut tumpul

5. Perhatikan gambar berikut ini!



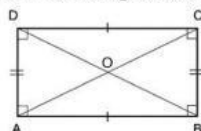
Berdasarkan gambar di samping dapat disimpulkan bahwa ...

A. persegi adalah persegi panjang yang semua sudutnya berbeda  
B. persegi panjang adalah persegi yang sisi-sisinya berlainan  
C. persegi adalah persegi panjang yang sisi-sisi berurutan sama panjang  
D. persegi panjang adalah persegi yang sisi-sisi berurutan sama panjang

6. Berikut di bawah ini yang tidak merupakan sifat dari persegi panjang ...

A. mempunyai empat buah sudut siku-siku  
B. mempunyai dua pasang sisi yang sama panjang  
C. mempunyai dua diagonal yang berpotongan di satu titik  
D. mempunyai empat sisi yang ukurannya sama panjang

7. Perhatikan gambar di bawah ini!



Sudut yang besarnya sama dengan sudut AOD adalah sudut ...

A. DOA  
B. AOB  
C. COB  
D. AOC

8. Perhatikan tabel berikut ini untuk menjawab soal nomor 8 dan 9!

**Diagram Turus Sayur Kesukaan Murid Kelas 5**

Nama Sayuran	Turus	Banyak Anak
Brokoli		7
Bayam		4
Wortel		6
Jagung		3

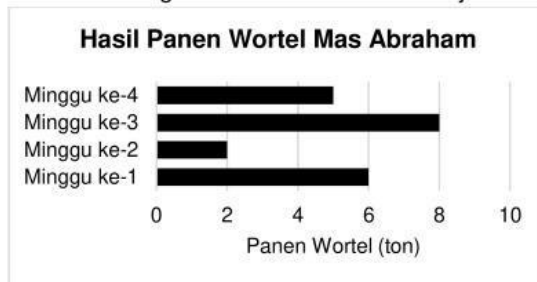
Dari tabel di atas dapat disimpulkan bahwa murid kelas 5 sebanyak ...

A. 19 anak  
B. 20 anak  
C. 21 anak  
D. 22 anak

9. Jenis sayuran yang paling disukai oleh murid kelas 5 berdasarkan tabel di atas adalah ...

- A. jagung  
B. wortel  
C. bayam  
D. brokoli

10. Perhatikan diagram berikut ini untuk menjawab soal nomor 10 dan 11!



Hasil panen wortel milik Mas Abraham mengalami penurunan paling banyak pada minggu ke ...

- A. ke-1  
B. ke-2  
C. ke-3  
D. ke-4

11. Selisih antara hasil panen wortel tertinggi dan terendah milik Mas Abraham yaitu ...

- A. 4 ton  
B. 5 ton  
C. 6 ton  
D. ton

12. Berdasarkan sensus penduduk pada tahun 2025, jumlah penduduk Kabupaten Blitar sebanyak 1.252.350 jiwa, dengan jumlah penduduk perempuan sebanyak 634.850 jiwa dan penduduk laki-laki sebanyak 617.500 jiwa. Nilai tempat angka 3 pada bilangan 1.252.350 adalah ...

- A. ratusan  
B. ribuan  
C. puluhan ribu  
D. ratusan ribu

13. Bilangan 634.850 jika diuraikan sesuai nilai tempatnya menjadi ...

- A.  $600.000 + 60.000 + 4.000 + 800 + 50 + 0$   
B.  $600.000 + 30.000 + 8.000 + 400 + 50 + 0$   
C.  $600.000 + 30.000 + 4.000 + 800 + 50 + 0$   
D.  $600.000 + 80.000 + 8.000 + 400 + 50 + 0$

14. Perhatikan tabel berikut ini!

634.850	...	617.500
---------	-----	---------

Tanda perbandingan yang tepat pada dua bilangan tersebut yaitu ...

- A.  $>$   
B.  $\geq$   
C.  $<$   
D.  $\leq$

15. Perhatikan tabel berikut ini!

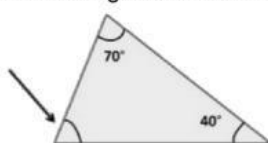
616.500	...	618.500
---------	-----	---------

Bilangan yang tepat untuk mengisi kotak kosong di atas agar bilangan-bilangan tersebut berurutan adalah ...

- A. 617.000  
B. 617.500  
C. 618.000  
D. 618.500

## II. Isilah titik-titik di bawah ini dengan jawaban yang tepat!

1. Perhatikan gambar berikut ini!



Besar sudut yang ditunjukkan oleh panah pada gambar di samping adalah ...

2. Sudut yang lebih kecil dari  $90^\circ$  disebut sudut ...

3. Suatu segi empat memiliki sifat-sifat sebagai berikut.

- Memiliki sepasang sisi sejajar dan saling berhadapan namun memiliki ukuran yang sama.
- Memiliki 2 sudut siku-siku yang saling berdekatan.
- Memiliki 2 diagonal dengan panjang yang berbeda.

Bangun datar yang dimaksud adalah ...

4. Perhatikan pictogram olahraga kesukaan siswa kelas V SD Tadika Mesra!

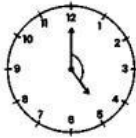
Olahraga	Banyak Siswa
Sepak bola	
Basket	
Bulu tangkis	
Tenis Meja	
menyatakan 3 siswa	

Banyak siswa kelas V SD Tadika Mesra yang menyukai olahraga sepak bola yaitu ...

5. Angka 8 pada bilangan 998.456 menempati nilai tempat ...

**III. Jawablah pertanyaan-pertanyaan di bawah ini dengan tepat!**

1. Perhatikan gambar berikut ini!



Tentukan jenis sudut dan besar sudut pada gambar di samping!

.....

.....

.....



2. Gambarlah sudut refleks dengan besar sudut  $270^\circ$ !

.....

.....

.....

3. Tuliskan perbedaan pada bangun-bangun berikut ini!

No	Perbedaan	Gambar 1 	Gambar 2 
1	Nama bangun		
2	Jumlah sisi		
3	Jumlah simetri lipat		
4	Jenis sudut yang dibentuk		
5	Jumlah sisi sejajar		

4. Perhatikan tabel hasil panen wortel Pak Bondan dalam seminggu!

Minggu ke-	Hasil panen (kg)
1	10
2	25
3	35
4	30
5	15

- a. Buatlah piktogram dari data hasil panen wortel Pak Bondan tersebut!
- b. Berapa total hasil panen wortel Pak Bondan selama 5 minggu?
- c. Kapan hasil panen mengalami kenaikan yang tinggi?
- d. Kapan hasil panen mengalami penurunan yang paling banyak dan berapa banyak penurunannya?

.....

.....

.....

5. Tuliskan bilangan yang terdiri 8 ratus ribu, 4 puluh ribu, 9 ribuan, 6 ratusan, 8 puluhan dan 3 satuan serta nilai tempatnya!

.....

.....

.....