



LEMBAR SOAL
Mata Pelajaran : IPS
Hari/Tanggal : Senin/ 2 Juni 2025
Waktu : 9.30-11.00
Kelas : VIII (DELAPAN)

PILIH LAH GANDA

1. Kegiatan manusia bertujuan untuk memenuhi kebutuhan hidup disebut..

A. Konsumsi C. Distribusi
B. Produksi D. Ekonomi
2. Yang termasuk sumber daya alam yang tidak dapat diperbaharui adalah...

A. Air C. Minyak Bumi
B. Hutan D. Matahari
3. Berikut ini yang termasuk kegiatan distribusi adalah...

A. Petani menanam padi
B. Pabrik membuat sepatu
C. Pedagang menjual sayur dipasar
D. Mengandalkan perdagangan dan industri
4. Salah satu bentuk interaksi sosial dalam kehidupan sehari-hari adalah...

A. Melihat orang dijalan
B. Menonton televisi
C. Bekerja samadalam kelompok
D. Membaca Buku
5. Ciri-ciri masyarakat agraris adalah...

A. Mayoritas penduduk bekerja di sektor jasa
B. Kehidupan asyarakat tergantung pada laut
C. Bergantung pada pertanian dan perkebunan
D. Mengandalkan perdagangan dan industri
6. Perdagangan yang dilakukan antarnegara disebut...

A. Perdagangan lokal
B. Perdagangan regional
C. Perdagangan Internasional
D. Perdagangan Nasional
7. Tujuan utama kegiatan ekspor adalah...

A. Mengurangi hasil produksi
B. Menambah devisa negara
C. Menambah devisa negara
D. Menurunkan Harga Barang
8. Salah satu dampak positif globalisasi dibidang ekonomi adalah...

A. Barang lokal tidak laku
B. Peningkatan kerja sama Internasional
C. Pengangguran Meningkat
D. Meningkatnya ketergantungan luar negeri
9. Faktor alam yang menyebabkan perbedaan waktu di Indonesia adalah...

A. Letak geografis C. Letak ketinggian
B. Letak astronomis D. Letak strategis
10. Negara Indonesia terdiri dari ribuan pulau, sehingga disebut sebagai negara...

A. Agraris C. Kepulauan
B. Industri D. Kontinental



Pilihlah lebih dari satu jawaban yang tepat.

11. Tentukan pernyataan berikut sebagai...

- A. Indonesia terletak di antara dua benua dan dua samudra.
- B. Gunung berapi termasuk sumber daya alam yang tidak dapat diperbarui.
- C. Mata pencaharian penduduk di pesisir pantai adalah bertani.
- D. Hutan tropis termasuk sumber daya alam hayati.

12. Pilih pernyataan yang merupakan dampak negatif urbanisasi...

- A. Kepadatan penduduk meningkat di kota
- B. Kesempatan kerja meningkat di desa
- C. Meningkatnya kawasan kumuh
- D. Kesejahteraan penduduk desa meningkat

13. Mana yang merupakan tujuan utama perdagangan internasional...

- A. Menutup impor
- B. Menambah pengangguran
- C. Menambah devisa negara
- D. Mengurangi ekspor

14. Pasangkan jenis sumber daya alam dengan contohnya:

Jenis SDA Contoh

- A. Hayati (1. Batu bara)
- B. Non-hayati (2. Ikan laut)
- C. Energi (3. Panas bumi)

15. Tentukan pernyataan berikut sebagai...

- a. Kegiatan distribusi menghubungkan produsen dan konsumen.
- b. Kegiatan konsumsi bertujuan untuk menghasilkan barang.
- c. Distributor biasanya menjual barang secara langsung.
- d. Produksi adalah kegiatan membuat atau menambah nilai guna barang.

16. Apa akibat dari persebaran penduduk yang tidak merata...

- A. Pemerataan pembangunan
- B. Kekurangan tenaga kerja di kota
- C. Kesenjangan sosial dan ekonomi
- D. Harga barang semakin murah

17. Berikut ini yang termasuk faktor pendorong interaksi sosial adalah ...

- A. Imitasi
- B. Simpati
- C. Komunikasi
- D. Kecemburuan sosial

18. Pasangkan jenis kegiatan ekonomi dengan contohnya

Jenis Kegiatan Contoh

- A. Produksi 1. Menjual barang ditoko
- B. Konsumsi 2. Membeli makanan
- C. Distribusi 3. Membuat sepatu dipabrik

19. Negara Indonesia memiliki berbagai suku bangsa. Hal ini menunjukkan bahwa Indonesia adalah negara yang ...

- A. Terbelakang
- B. Multikultural
- C. Monokultural
- D. Biasa saja

20. Tentukan apakah pernyataan berikut Benar (B) atau Salah (S):

- a. ASEAN terdiri dari 10 negara anggota.
- b. Indonesia adalah negara yang paling barat di ASEAN.
- c. Tujuan ASEAN adalah memperkuat militer di Asia Tenggara.
- d. ASEAN didirikan pada tahun 1967

21. Dampak revolusi industri terhadap masyarakat Eropa antara lain ...

- a. Urbanisasi meningkat
- b. Produksi barang menurun
- c. Munculnya kelas buruh pabrik
- d. Meningkatnya peran kerajaan

22. Tujuan perdagangan internasional bagi negara adalah ...

- a. Menambahkan hutang luar negeri
- b. Meningkatkan devisa negara
- c. Memperluas pasar dalam negeri
- d. Menurunkan ekspor

23. Peran Indonesia dalam kerja sama ASEAN di bidang ekonomi ditunjukkan melalui ...

- a. AFTA
- b. SEATO
- c. Ekspor minyak ke negara ASEAN
- d. Penggunaan mata uang bersama

24. Faktor pendorong urbanisasi di Indonesia adalah ...

- a. Lapangan kerja di kota lebih banyak
- b. Harga rumah lebih murah di kota
- c. Kurangnya fasilitas pendidikan di desa
- d. Biaya hidup lebih rendah di kota



CARI KATA

25. Cari lah 5 kata yang berkaitan dengan bank digital

O	V	O	L	H	A	Y	V	I	R	F	R	K	T
U	G	O	C	N	J	J	X	X	L	Q	D	Y	P
H	K	Y	A	M	W	U	T	I	M	S	A	Y	T
A	K	D	X	K	F	B	N	F	D	P	K	L	Y
Z	O	I	X	A	L	K	J	Z	O	C	O	Y	U
W	M	E	E	Y	A	W	S	G	Z	V	L	J	A
H	Y	H	K	J	M	B	H	E	P	B	Q	M	W
U	W	Q	A	M	O	V	O	D	G	Y	J	O	N
H	B	Y	N	T	D	Q	P	M	M	C	I	Y	B
Q	P	P	T	Y	G	G	E	W	M	S	S	R	F
Z	O	Z	J	C	L	R	E	N	M	U	K	K	C
E	O	N	H	C	F	M	P	B	P	S	L	W	E
E	F	U	M	C	Z	R	A	Z	L	I	Q	D	S
C	W	W	Y	Y	K	I	Y	G	Z	I	Q	V	O



MENJODOHKAN

26. Produksi

27. Konsumsi

28. Distribusi

29. Ekspor

30. Impor

31. ASEAN

32. Pertanian

33. Globalisasi

34. Sumber daya
alam tak terbarukan

35. Interaksi sosial

A. Menyalurkan barang dari
produsen ke konsumen

B. Menghasilkan atau menambah
nilai guna barang

C. Membeli barang untuk
memenuhi kebutuhan

D. Perdagangan keluar negeri

E. Perdagangan dari luar negeri

F. Organisasi negara-negara Asia
Tenggara

G. Kegiatan ekonomi utama
masyarakat desa


H. Proses mendunia tanpa batas
wilayah


I. Minyak bumi, batu bara

J. Hubungan timbal balik
antarindividu





JAWABAN SINGKAT

36. Kebijakan yang digunakan bank sentral untuk mengendalikan jumlah uang beredar disebut? 

37. Instrumen yang digunakan Bank Indonesia untuk operasi pasar terbuka adalah 
(lambang)

38. Bank yang kegiatannya berdasarkan prinsip syariah Islam disebut bank. 

39. Rasio yang menunjukkan kemampuan bank dalam memenuhi kewajiban jangka pendek adalah. 

40. Kegiatan bank dalam menerima simpanan dari masyarakat disebut. 




Jawablah pertanyaan di bawah ini dengan memindahkan gambar pada kotak yang tersedia


41.	42.	43.
Kartu Pengingat  Pahlawan-Pahlawan Nasional Indonesia kisah Perjuangannya	Ir. Soekarno	Mohammad Hatta
44.	45.	46.
R.A. Kartini	Ki Hajar Dewantara	Cut Nyak Dien
		47.
		Pangeran Diponegoro



48 Jawablah pertanyaan di bawah ini dengan memindahkan gambar pada logo yang tersedia



49. Letakan bagian- bagian gambar membentuk sebuah bangunan Bank Indonesia



50. ASEAN terdiri dari beberapa negara, cari kata tersebut pada kotak di bawah ini

J	E	S	I	N	G	A	P	U	R	A	S	T	E
F	F	K	N	W	B	B	A	L	K	G	X	K	W
Z	U	S	N	V	I	E	T	N	A	M	E	N	T
F	N	M	N	E	F	B	M	M	I	I	K	K	H
I	F	Q	H	B	K	Y	G	N	O	W	A	Y	A
L	O	Z	T	M	A	B	D	I	A	M	A	I	I
I	Y	P	K	N	R	O	P	Z	B	L	S	M	L
P	U	J	M	C	N	K	I	O	H	Y	C	D	A
I	N	A	N	E	G	U	J	Q	A	Y	S	V	N
N	R	U	S	B	X	A	A	L	K	O	F	Y	D
A	J	I	E	I	F	X	A	G	A	D	N	I	O
F	A	H	Z	F	Q	M	B	L	L	A	E	H	Z
M	E	B	X	T	K	Z	Z	Z	T	H	C	K	W
G	T	H	P	K	Z	O	G	S	C	R	M	N	L

