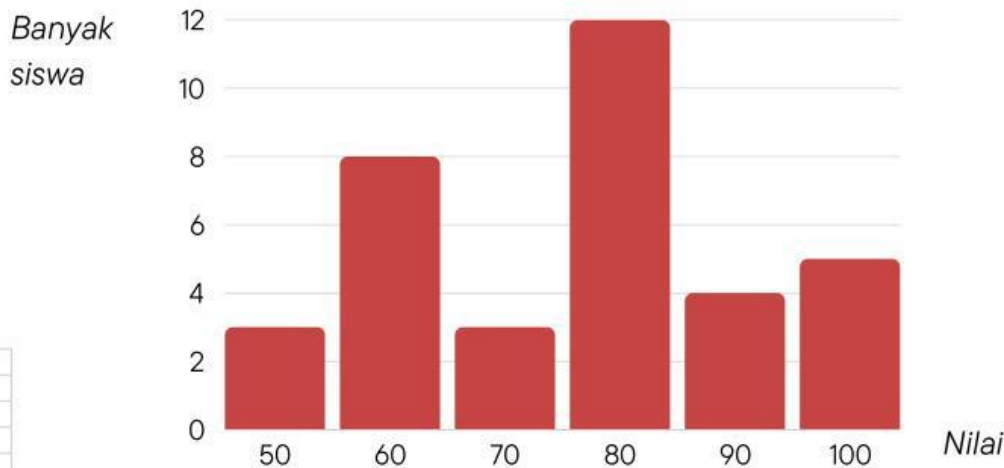


Nama :

No Presensi :

DIAGRAM BATANG

Berikut ini merupakan diagram batang perolehan nilai hasil ulangan Matematika di kelas IV yang berjumlah 35 siswa.



Berdasarkan data di atas, jawablah pertanyaan berikut ini!

1. Tentukan banyak siswa yang mendapatkan nilai 70!

2. Tentukan jumlah siswa yang mendapat nilai 90 dan 100!





3. Berapakah nilai yang paling banyak diperoleh oleh siswa kelas IV?

4. Berapakah selisih jumlah siswa yang mendapat nilai 60 dan 50?

5. Berapakah jumlah siswa yang mendapat nilai 70, 80, dan 90?

Piktogram

Data Jumlah Siswa

Kelas	Jumlah Siswa
Kelas 1	
Kelas 2	
Kelas 3	
Kelas 4	

Satu gambar mewakili 5 orang

Jawablah pertanyaan berikut berdasarkan diagram gambar di atas!

1. Berakah jumlah siswa kelas 4?

2. Kelas berapakah yang memiliki jumlah siswa 35?

3. Berapakah jumlah siswa kelas 1?

4. Berapakah selisih jumlah siswa kelas 2 dan 3?

5. Berapakah jumlah **seluruh** siswa kelas 1 sampai 4?
