

Nama:

Kelas:

Fungsi Organ Tubuh Manusia

Sambungkan organ tubuh dan fungsinya dengan benar



•

•

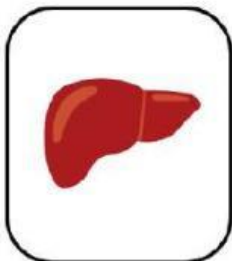
Memompa darah ke seluruh tubuh



•

•

Menyimpan dan mendetoksifikasi zat berbahaya



•

•

Mengontrol aktivitas tubuh dan menyimpan informasi



•

•

Mengolah makanan dan menghasilkan energi



•

•

Mengambil oksigen dari udara

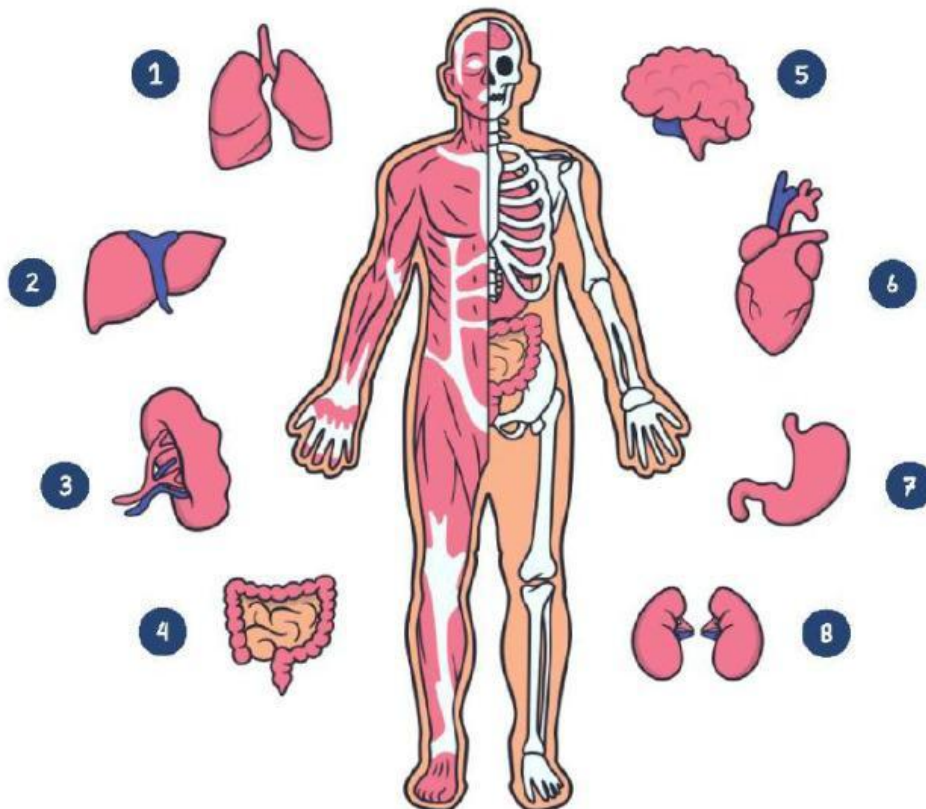
LKPD

Nama : _____

Kelas : _____

ORGAN TUBUH MANUSIA

Perhatikan gambar organ tubuh berikut dan tuliskan nama organ sesuai nomor yang ditunjukkan!



1

5

2

6

3

7

4

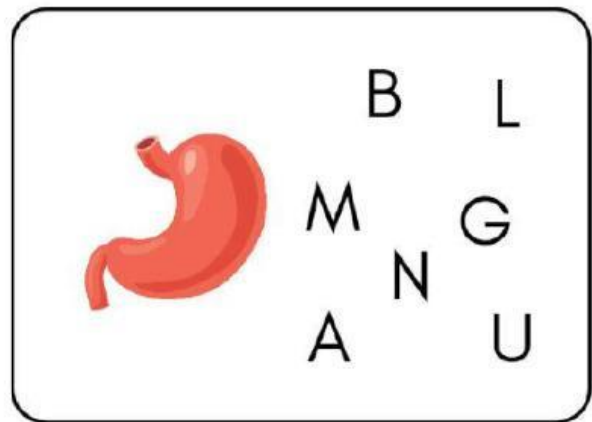
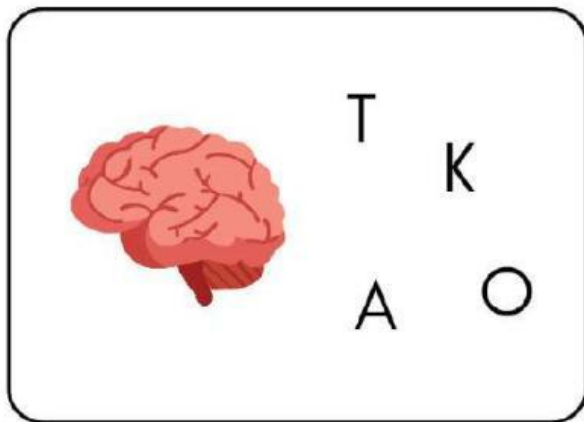
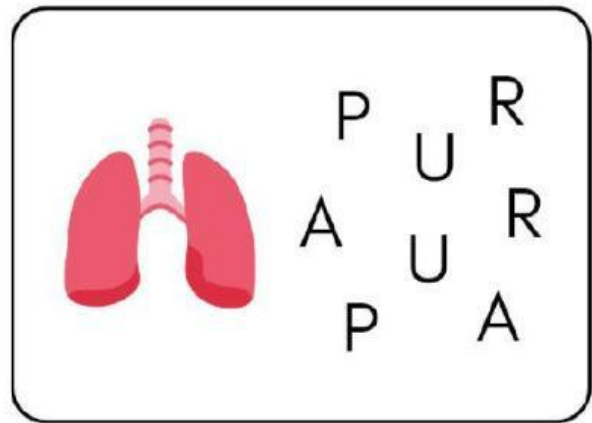

8

Nama :

Kelas :

MARI MENGENAL ORGAN TUBUH

Susunlah huruf di bawah ini agar menjadi nama organ tubuh yang benar!

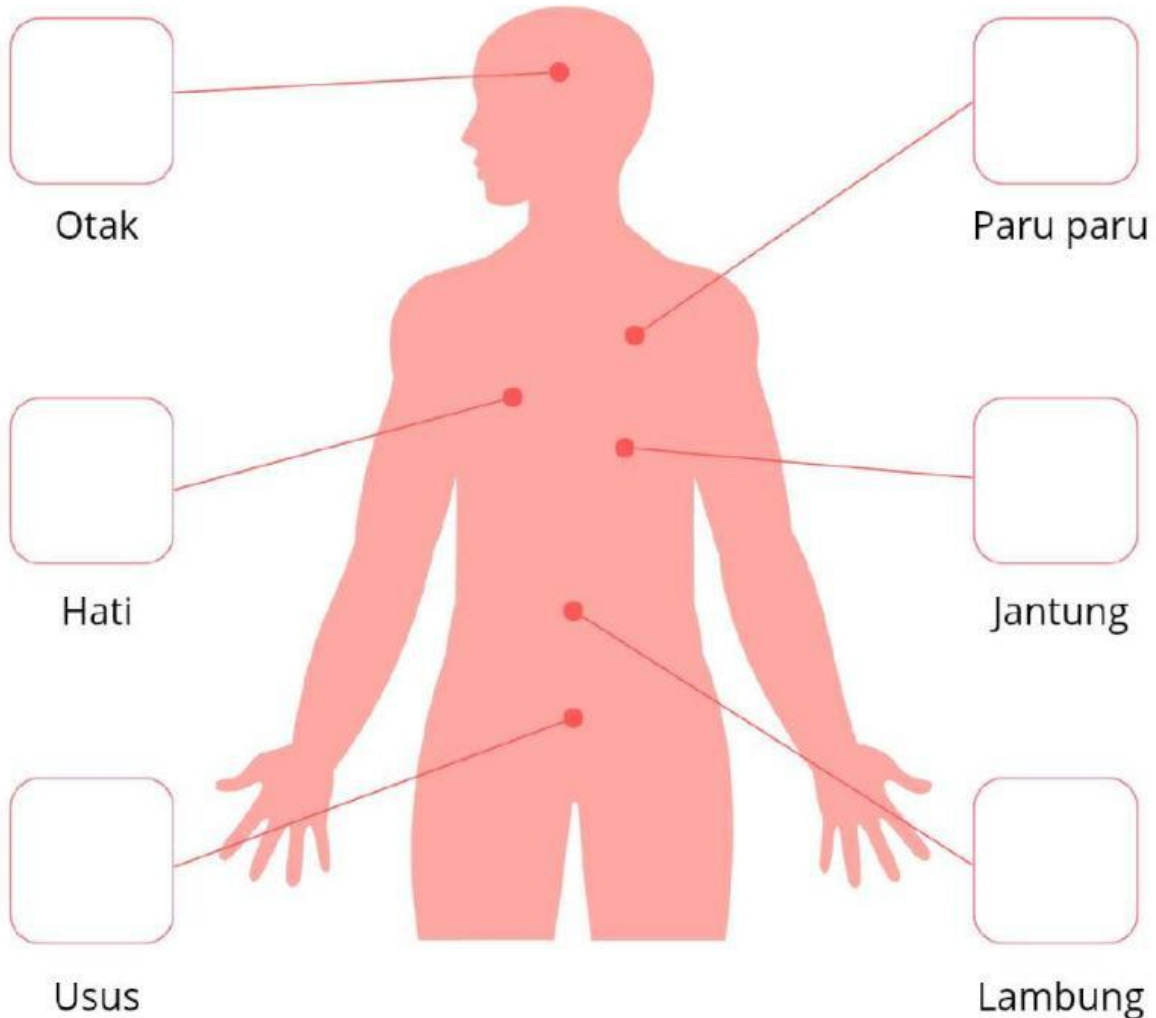


Nama : _____

Kelas : _____

Peta Tubuh dan Organ

Hubungkan Gambar Organ dengan menarik gambar dari nama organ ke bagian tubuh yang benar!



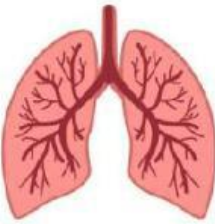
Nama :

Kelas :

Sistem Organ Tubuh Manusia

Petunjuk:

1. Lihat gambar organ tubuh manusia di bawah ini.
2. Beri tanda (✓) pada kolom yang sesuai dengan fungsi dari organ tubuh yang disebutkan.



Mengedarkan darah ke seluruh tubuh

☐

Menghirup oksigen dan mengeluarkan karbon dioksida

☐

Menghancurkan makanan dan menyerap nutrisi

☐

Memompa darah ke seluruh tubuh

☐

Mengolah makanan menjadi energi

☐

Memompa darah ke seluruh tubuh

☐

Mencerna makanan secara lebih lanjut setelah keluar dari lambung

☐

menyaring dan menghilangkan racun, obat-obatan, dan zat berbahaya

☐