


Nama : \_\_\_\_\_

Kelas : \_\_\_\_\_

## Mengenali Bangun Datar segi empat

Hubungkan gambar dengan nama yang sesuai!



PERSEGI  
PANJANG

BELAH  
KETUPAT

PERSEGI



JAJAR  
GENJANG

Nama : \_\_\_\_\_

Kelas : \_\_\_\_\_

# Mengenalkan Bangun Datar segi empat

Beri nama pada kolom sesuai nama bangun datar



Nama : .....

Kelas : .....

## Mengenai Bangun Datar segi empat

Sebuah persegi memiliki panjang sisi 6 cm.  
Hitunglah Keliling persegi tersebut!



6 cm

Jawaban :