

# LKPD

Ilmu Pengetahuan Alam dan Sosial

# IPAS

Kelas 3 Fase B

Mari Kenali Hewan di Sekitar Kita













Nama: .....

Kelas: .....

## MENENTUKAN JENIS-JENIS HEWAN

Lengkapilah tabel di bawah ini berdasarkan gambar!

Gambar	Nama Hewan	Vertebrata / Invertebrata	Jenis hewan
			
			
		Invertebrata	
			
			
			Mamalia
			
	Singa		
			
			

Nama: .....

Kelas: .....

## MENENTUKAN JENIS-JENIS HEWAN

Lengkapilah tabel di bawah ini berdasarkan gambar!











Gambar	Nama Hewan	Vertebrata	Invertebrata
			
			
			
			
			
			
			
			
			
			

Nama: .....

Kelas: .....

## MENENTUKAN HEWAN VERTEBRATA

Berilah tanda centang (V) pada jenis yang sesuai di bawah ini!

Gambar	Agnatha	Reptil	Mamalia	Pisces	Aves	Amfibi
						
						
						
						
						
						
						
						
						
						

4/17



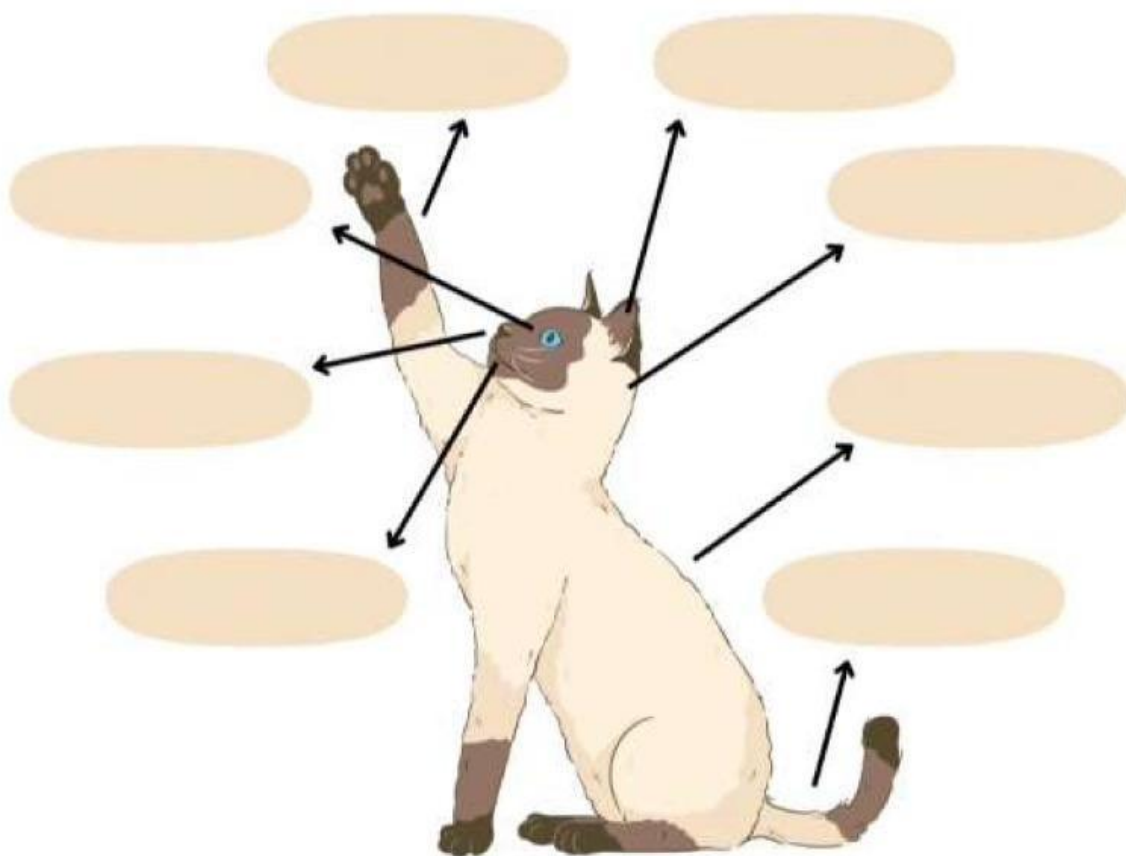


Nama :

Kelas :

## MEMAHAMI BAGIAN TUBUH HEWA. 5/17

Guntinglah tulisan dibawah kemudian tempelkan sesuai dengan bagian tubuhnya ! Selamat mengerjakan !



MATA

KAKI

EKOR

KEPALA

TELINGA

MULUT

HIDUNG

BADAN

Nama :

Kelas :

## MEMAHAMI BAGIAN TUBUH HEWAN

Guntinglah tulisan dibawah kemudian tempelkan sesuai dengan bagian tubuhnya ! Selamat mengerjakan !



6/17



MATA

KAKI

EKOR

KEPALA

TELINGA

MULUT

HIDUNG

BADAN

Nama :

Kelas :

## MEMAHAMI BAGIAN TUBUH HEWAN

Guntinglah tulisan dibawah kemudian tempelkan sesuai dengan bagian tubuhnya ! Selamat mengerjakan !



7/17



MATA

KAKI

EKOR

KEPALA

PARUH

SAYAP

BULU

BADAN

Nama:

Kelas:

# JENIS-JENIS HEWAN

Pasangkan nama dengan gambar hewannya!



Kelinci

Burung

Udang

Sapi

Bintang Laut

Kuda

Ayam

Angsa



8/17






Nama :

Kelas :

## BAGIAN-BAGIAN TUBUH HEWAN

Amatilah gambar hewan dibawah ini, kemudian tulislah bagian-bagian tubuhnya pda tabel yang tersedia!



Nama Hewan	Bagian tubuh yang dimilikinya
Kucing	
Ayam	
Ikan	
Sapi	
Kambing	


9/17



nama:

## Di mana hewan ini tinggal?

Yuk kita pasangkan hewan-hewan di bawah ini dengan tempat tinggal mereka.



10/17



Nama:

Kelas:

# Tempat Hidup

Gunting dan tempelkan gambar binatang pada tempat hidup yang sesuai

Darat

Laut



11/17






Nama: .....

Kelas: .....


## PERKEMBANGBIAKAN GENERATIF PADA HEWAN

Cocokkanlah gambar hewan dan cara berkembangbiaknya dengan cara menarik garis!


Ovipar  
( Bertelur )




Vivipar  
( Melahirkan )




Ovovivipar  
( Bertelur dan Melahirkan )




Ovipar  
( Bertelur )




Vivipar  
( Melahirkan )



Ovovivipar  
( Bertelur dan Melahirkan )



Ovipar  
( Bertelur )



13/17





Nama:

Kelas:

# Bermain Tebak Hewan

Bacalah kalimat petunjuk yang tersedia. Lihat halaman berikutnya dan cari gambar hewan yang sesuai dengan petunjuk. Lingkari gambar yang benar kemudian tulis nama hewan tersebut di dalam kotak.

## Contoh:

Aku melihat hewan dengan kulit warna merah muda dan ekor yang pendek.

babi

Aku melihat hewan dengan bulu putih tebal dan bersuara "Mbeek".

Aku melihat hewan yang dapat berlari kencang. Ia memiliki rambut yang panjang.

Aku melihat hewan dengan kaki berselaput. Ia berbunyi "Kwek kwek".

Aku melihat hewan yang memiliki telinga panjang. Ia berjalan dengan melompat.

Aku melihat hewan yang dapat menghasilkan susu. Ia bersuara "Mooo".

**Dimanakah saya tinggal?**  
**Ayo carilah tempat tinggal hewan berikut!**



Nama:

Kelas:

# JENIS HEWAN

Lengkapi tabel di bawah dengan contoh yang sesuai dengan penggolongan hewan berdasarkan makanannya.

## HERBIVORA

Hewan yang hanya makan tumbuhan sebagai sumber makanannya

## CONTOH

## KARNIVORA

Hewan yang makan daging sebagai sumber makanannya

## CONTOH

## OMNIVORA

Hewan yang makan tumbuhan dan daging sebagai sumber makanannya

## CONTOH