

نشاط تدرّبي

حالات المادة

السؤال الأول: ضع صح أمام العبارة الصحيحة، و خطأ أمام العبارة الخاطئة.


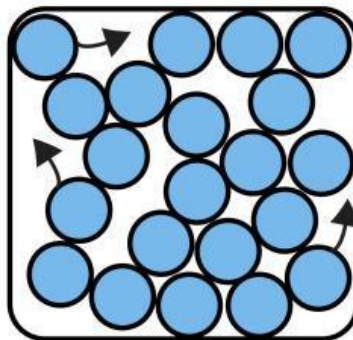
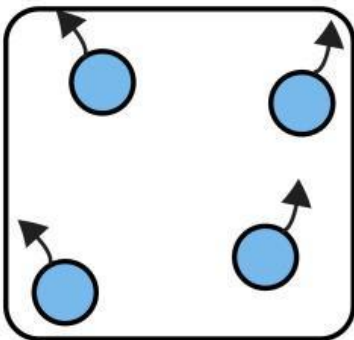
يتغير حجم الماء والهواء بتغيير حجم الإناء (.....).

كلا المادة الصلبة والسائلة لهما حجم ثابت، لا يتغير بتغير

الإناء (.....).

السؤال الثاني: حدد إلى أي مادة تنتمي كل من الجسيمات التالية، مع

تبرير إجابتك في ما لا يتجاوز السطرين.



نشاط تدرّبي

حالات المادة

السؤال الثالث: قارن في أشكال فن أدناه ما بين حالات المواد الثلاث (صلبة، غازية، سائلة) من حيث الحجم والشكل.

