

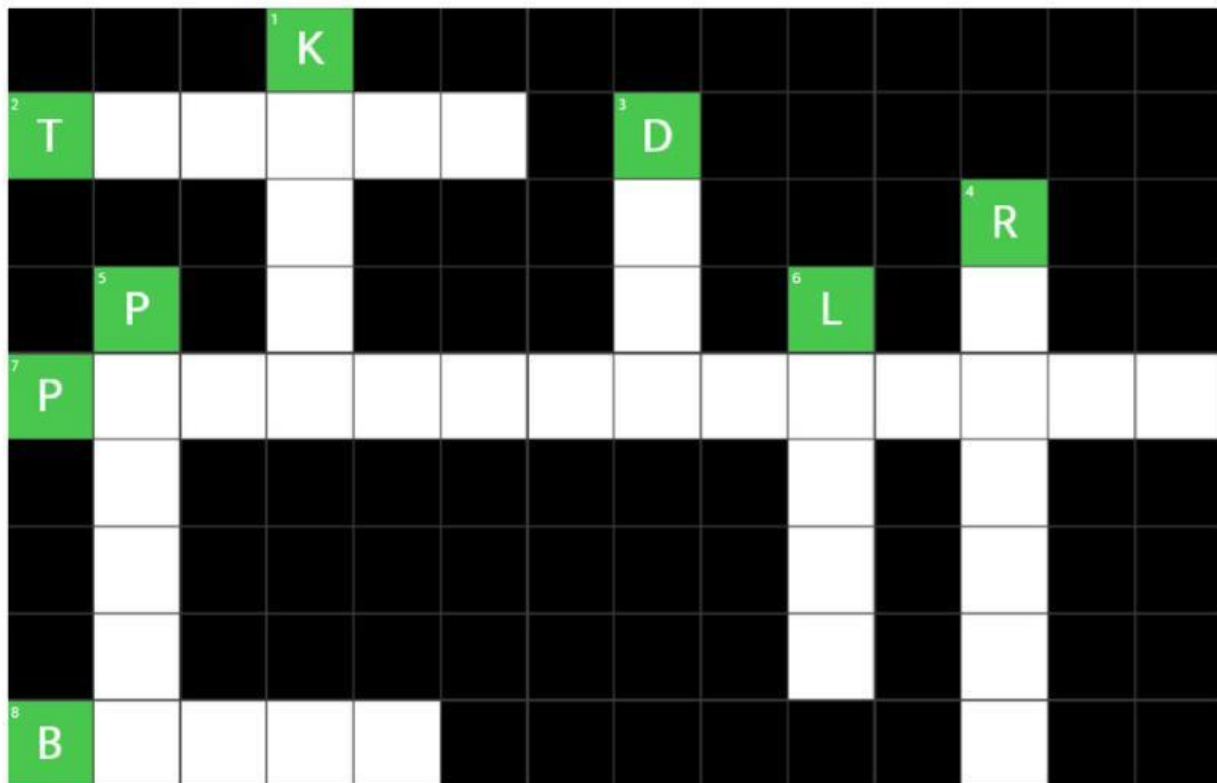
NAME :

CLASS :



## TEKA-TEKI SILANG

Isilah teka-teki silang di bawah ini sesuai bangun ruang di Gereja Blenduk!



### ACROSS

2 Bentuk kolom atau tiang penyangga di bagian luar gereja

7 Bangun ruang menyerupai atap depan pintu utama gereja

8 Bentuk bangun ruang kursi panjang jemaat di dalam gereja.

### DOWN

1 Bentuk bangun ruang yang bagian sisi depannya terdapat jam

3 Struktur atap setengah bola (dalam Bahasa Inggris)

4 Pegangan tangga atau balkon yang berbentuk tabung memanjang

5 Bentuk mimbar atau ruangan tambahan kecil berbentuk kotak memanjang

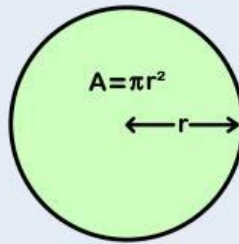
6 Bentuk atap menara kecil gereja di bagian depan atau samping








## DRAG AND DROP

Isilah tabel ini sesuai contoh!

$$L = \text{phi} \times r \times r$$



Bagian Gereja	Luas Permukaan Bangun Ruang
	
	
	
	
	



## DRAG AND DROP

Isilah tabel ini dengan unsur-unsur yang ada pada whiteboard!

Bagian Gereja	Volume Bangun Ruang
Dinding Jam	
Atap Menara	
Kubah	
Pilar	
Jendela Melengkung	

× × × × × × × × × × ×  
× × × × × × × × × × +  
 $\frac{1}{3}$   $\frac{1}{2}$   $\frac{4}{3}$   $\frac{1}{2}$   $\frac{4}{3}$   $\frac{1}{4}$  t t t  
S S S S S  $\pi$   $\pi$   $\pi$   $\pi$   
r r r r r r r r r r

FINISH