



# PECAHAN

NAMA : .....



KELAS : .....





## SOAL PECAHAN ITU MUDAH!

 -  =  $\frac{5}{6}$



- 1 Budi mempunyai 10 permen. Ia memutuskan untuk berbagi setengah bagian dengan adiknya. Berapa permen yang diberikan Budi?

 -  =

- 2 Andi memiliki 12 potong coklat. Andi meminta Joko mengambil  $\frac{1}{2}$  dari coklat tersebut. Berapa coklat yang harus diambil Joko?

 -  =

- 3 Ibu membuat 8 potong pizza. Ibu memberikan  $\frac{1}{4}$  dari pizza tersebut kepada Siti. Berapa potong pizza yang diberikan Ibu kepada Siti?

 -  =

## Pecahan Biasa

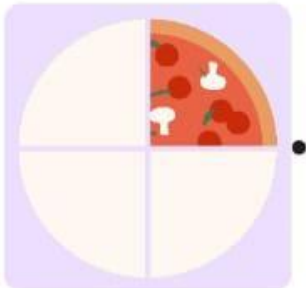
Hubungkan gambar sisa potongan pizza dengan pecahan yang tepat.



•  $\frac{1}{1}$



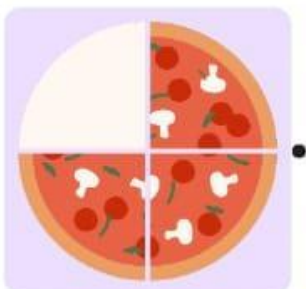
•  $\frac{3}{4}$



•  $\frac{1}{2}$



•  $\frac{5}{6}$



•  $\frac{1}{4}$