

# MENGUKUR VOLUME DENGAN SATUAN TIDAK BAKU

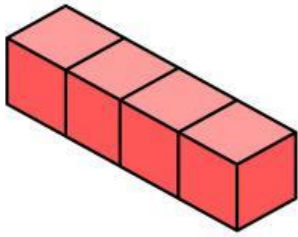
NAMA :

KELAS :

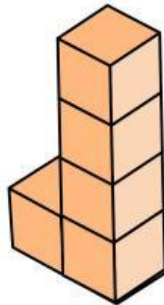


**PETUNJUK :**


Hitunglah volume bangun di bawah ini dengan benar!




Berapakah kubus satuannya?



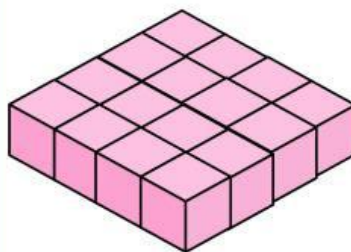
Berapakah kubus satuannya?



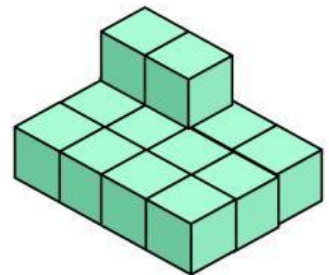
Berapakah kubus satuannya?



Berapakah kubus satuannya?



Berapakah kubus satuannya?



Berapakah kubus satuannya?