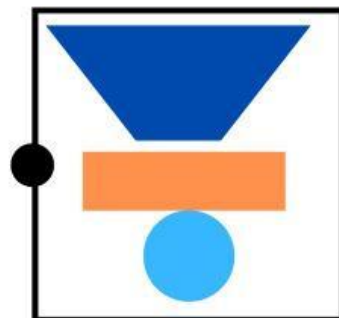
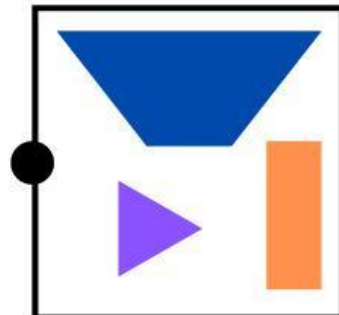
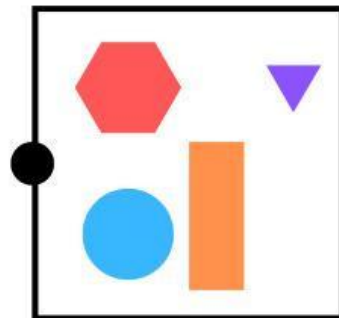
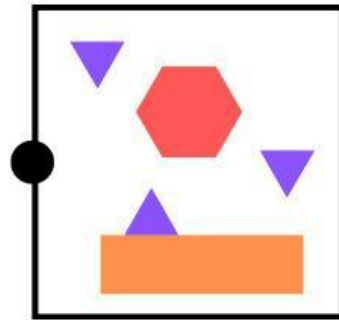
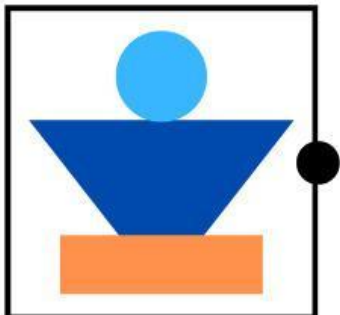
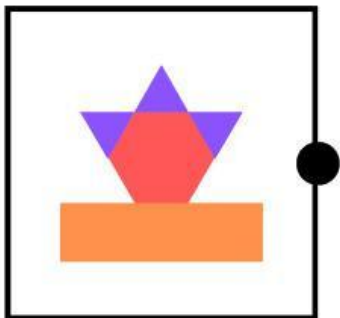
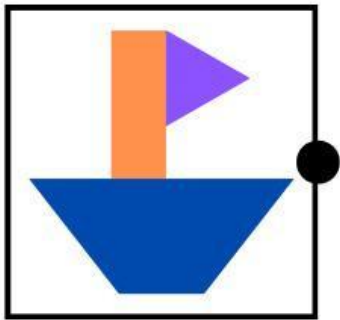


Nama: \_\_\_\_\_

Kelas: \_\_\_\_\_

# Memasangkan Bangun Datar

Hubungkan tumpukan bangun datar dengan komposisi yang tepat!

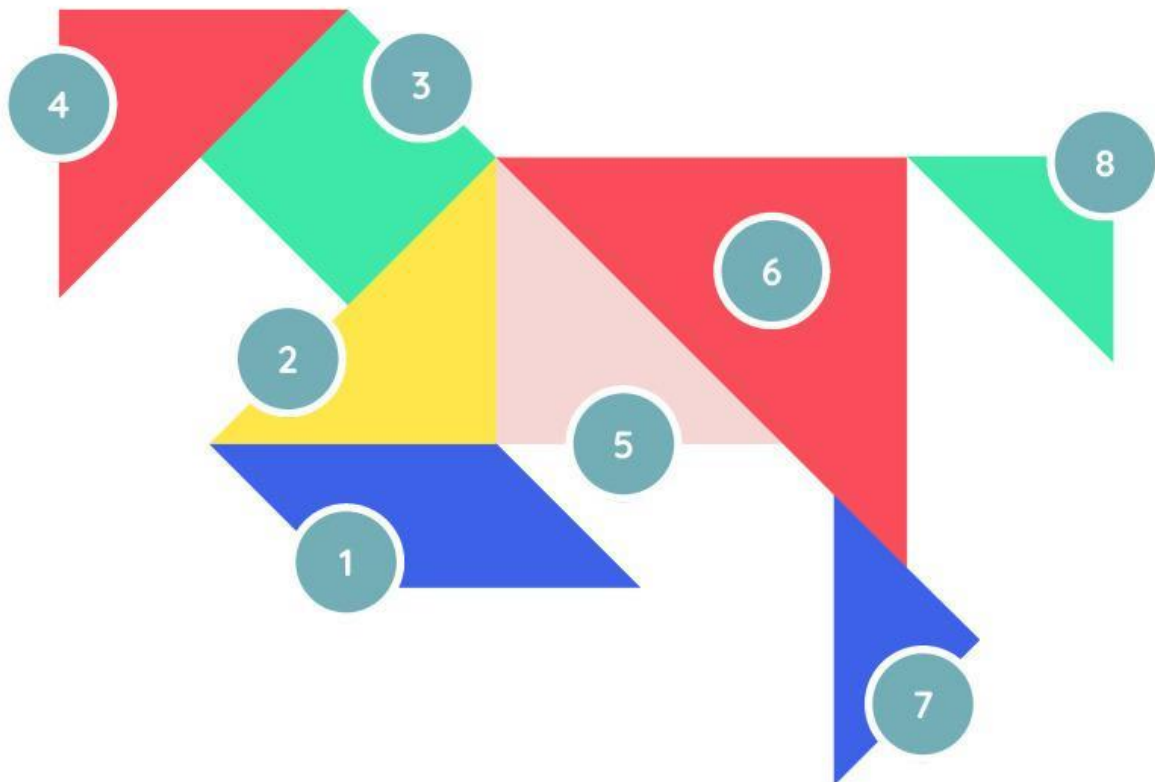


Nama : .....

Kelas : .....

# Bangun Datar

Tuliskan nama bangun sesuai nomor yang diberikan.



1 .....

4 .....

7 .....

2 .....

5 .....

8 .....

3 .....

6 .....

Nama : \_\_\_\_\_

Kelas : \_\_\_\_\_

# Dekomposisi Bangun Ruang



Perhatikan bagian gambar atap rumah adat berikut ini, carilah jenis bangun datar yang ada pada atap rumah tersebut dan gambar bentuk bangun datar pada tabel di bawah ini.



Bentuk Bangun Datar	Nama Bangun Datar	Banyaknya