



Kurikulum
Merdeka


LKPD

Lembar Kerja Peserta Didik

bangun ruang

Nama :

Kelas :



mata pelajaran: matematika
Kelas : V

amatilah video dibawah ini dengan
saksama!



Kegiatan I

petunjuk



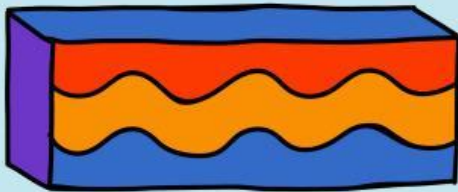
1. Temukan dan tuliskan minimal 5 benda yang memiliki bentuk bangun ruang
2. identifikasi jenis bangun ruangnya dan catat informasi berikut!





NO	Nama barang	jenis bangun ruang

kegiatan 2



pada kegiatan ini kalian akan mengamati ciri ciri bangun ruang (kubus dan Balok) yang ada pada gambar di samping! silahkan tuliskan ciri ciri bangun ruang kubus dan balok!

ciri ciri kubus

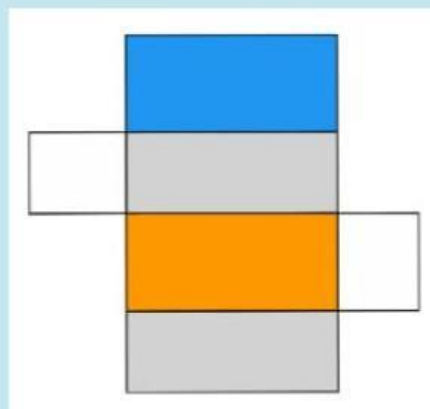
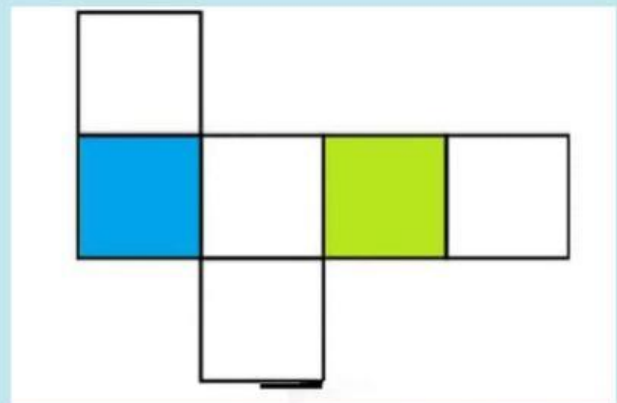
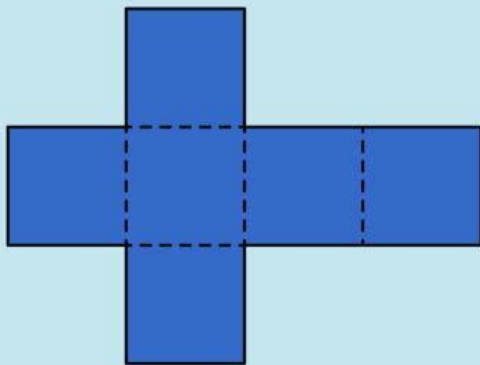


ciri ciri balok





Dikegiatan ini kalian akan menebak jaring jaring bangun ruang dengan benar!





1. Sebuah kotak memiliki panjang 9cm, lebar 6cm dan tinggi 10cm. Hitunglah volume dari kotak tersebut

jawab

2. sebuah kubus memiliki panjang rusuk 6cm. hitunglah volume kubus

jawab

3. Sebuah balok memiliki panjang 8cm, lebar 5cm dan tinggi 3cm. maka hitunglah volume balok!

jawab





Thank
you!