


LEMBAR KERJA PESERTA DIDIK

Kenampakan Alam dan Buatan

Kelas 3

A. Perhatikan Video berikut!



B. Ayo cocokkan kenampakan alam dengan deskripsinya!



Genangan air yang sangat luas dan dikelilingi oleh daratan



Permukaan bumi yang menjulang tinggi



Kumpulan air asin dalam jumlah banyak dan luas.











Wilayah perbatasan antara daratan dan perairan











aliran air permukaan yang besar, memanjang, dan terus mengalir dari hulu menuju hilir

C. Hubungkan gambar lingkungan alami dan lingkungan buatan di bawah ini dengan benar!

			
•	•	•	•
<div style="border: 1px solid black; border-radius: 10px; padding: 5px; text-align: center;">Lingkungan alami</div>		<div style="border: 1px solid black; border-radius: 10px; padding: 5px; text-align: center;">Lingkungan buatan</div>	
•	•	•	•
			

D. Hubungkan gambar dibawah ini sesuai dengan nama tempatnya!

	<div style="border: 1px solid black; padding: 2px 10px;">Pegunungan</div>	
	<div style="border: 1px solid black; padding: 2px 10px;">Laut</div>	
	<div style="border: 1px solid black; padding: 2px 10px;">Rawa</div>	
	<div style="border: 1px solid black; padding: 2px 10px;">Sungai</div>	
	<div style="border: 1px solid black; padding: 2px 10px;">Danau</div>	
	<div style="border: 1px solid black; padding: 2px 10px;">Teluk</div>	
	<div style="border: 1px solid black; padding: 2px 10px;">Hutan</div>	
	<div style="border: 1px solid black; padding: 2px 10px;">Gurun</div>	

E. Pilihlah salah satu pada jawaban yang benar!

- 1. Tempat yang lebih tinggi, tetapi lebih rendah dari gunung adalah**
 - a. Bukit**
 - b. Puncak**
 - c. Menara**

- 2. Daratan terbagi menjadi 2 yaitu...**
 - a. Daratan tinggi dan dataran kecil**
 - b. Dataran besar dan dataran kecil**
 - c. Dataran tinggi dan dataran rendah**

- 3. Hamparan air yang sangat luas disebut...**
 - a. Sungai**
 - b. Laut**
 - c. Pantai**

- 4. Daerah di permukaan bumi yang terdiri dari padang pasir yang sangat luas disebut**
 - a. Gurun**
 - b. Bukit**
 - c. Sawah**

- 5. Berikut ini yang termasuk lingkungan buatan adalah...**
 - a. Sungai**
 - b. Sawah**
 - c. Pantai**