



LKPD

Matematika

Penyajian Data

Nama:

Kelas:



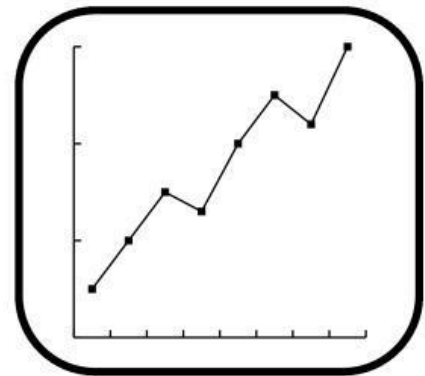
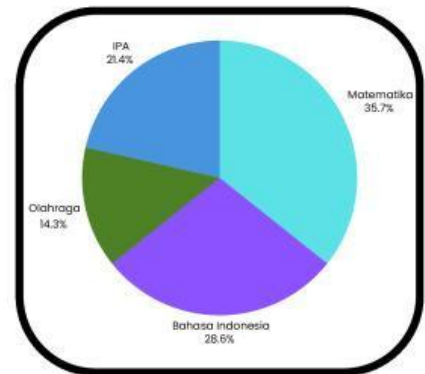
Tariklah garis pada Gambar yang sesuai

Diagram Garis

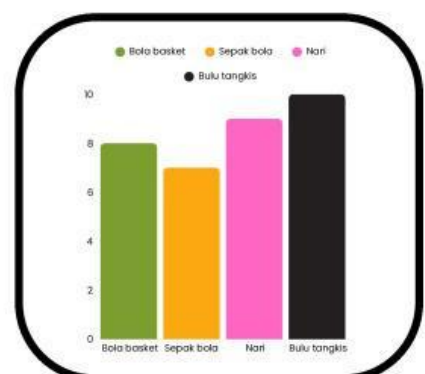
Diagram
lingkaran

Diagram Tabel

Diagram
Batang



Tinggi Badan	Banyak Siswa
125	3
130	4
135	2
140	6
145	5
jumlah	20



**AYO, MENCoba !
PERHATIKAN TABEL DI BAWAH INI !**

Tabel hobi teman sekelas Melly

JENIS HOBBY	BANYAK SISWA
MEMBACA	8
MENYANYI	6
OLAH RAGA	11
MENGGAMBAR	4

**Lengkapi pernyataan di bawah ini, sesuai dari data tabel di atas !
seret dan lepaskan angka yang sesuai pada kotak yang telah disediakan !**

- **Siswa yang hobby membaca ada**
- **Siswa yang hobby olah raga ada**
- **Siswa yang hobby menggambar ada**
- **Siswa yang hobby menyanyi ada**
- **JUMLAH teman sekelas Melly ada**
- **Hobby yang paling banyak adalah**
- **Hobby yang paling sedikit adalah**

8 Orang

11 Orang

29 Orang

4 Orang

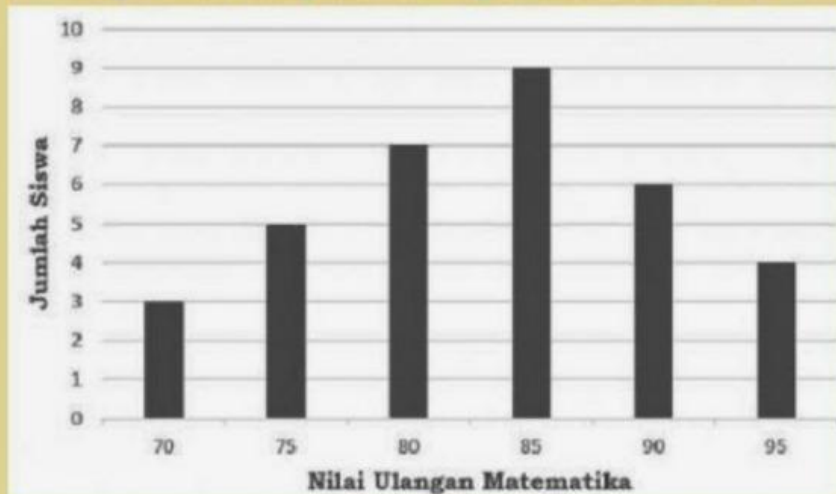
6 Orang

Menggambar

Oralahraga

**AYO, MENCoba !
PERHATIKAN DIAGRAM BATANG DI BAWAH INI !**

Diagram batang nilai ulangan matematika 4C



**Lengkapi pernyataan di bawah ini, sesuai dari data diagram di atas !
seret dan lepaskan angka yang sesuai pada kotak yang telah disediakan !**

- Siswa yang mendapat nilai 70 ada
- Siswa yang mendapat nilai 75 ada
- Siswa yang mendapat nilai 80 ada
- Siswa yang mendapat nilai 85 ada
- Siswa yang mendapat nilai 90 ada
- Siswa yang mendapat nilai 95 ada
- Nilai tertinggi adalah
- Nilai terendah adalah

4 Orang

3 Orang

9 Orang

6 Orang

70

7 Orang

5 Orang

95