

LKPD



Ilmu Pengetahuan Alam

Tema: GAYA, GERAK, DAN ENERGI

Nama: _____ Kelas: _____



MATERI



PELATIHAN



1. Bila sebuah magnet dipotong menjadi dua, maka setiap potongan magnet akan
 - a. hilang kemagnetannya
 - b. menjadi setengah magnet
 - c. menjadi magnet dengan dua kutub
 - d. menjadi magnet yang mempunyai satu kutub
2. Suatu gaya yang berasal dari dalam bumi yang dapat menarik benda jatuh ke bumi disebut
 - a. gaya bumi
 - b. gaya gesek bumi
 - c. gaya gravitasi bumi
 - d. gaya medan bumi
3. Alat untuk mengukur gaya gravitasi disebut
 - a. dinamika
 - b. dinamometer
 - c. termometer
 - d. auksonometer
4. Berat suatu benda sama dengan
 - a. besar gaya gravitasi yang bekerja pada benda itu
 - b. volume benda itu
 - c. massa benda itu
 - d. besar benda itu

Bentuk-Bentuk Energi di Sekitar Kita

Sambungkan gambar dengan jenis energi yang tepat.

☐☐

Energi Panas

☐☐

Energi Cahaya

☐☐

Energi Gerak

☐☐

Energi Kimia

☐☐

Energi Listrik

☐☐

Energi Bunyi

Sumber Energi di Sekitar Kita

Perhatikan gambar, tuliskan jenis energi yang dihasilkan berdasarkan sumber energi di bawah ini.

Matahari




Makanan



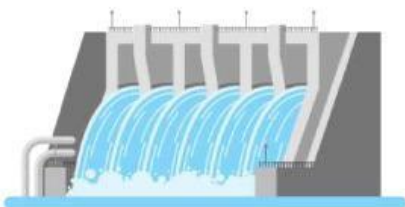
Bahan Bakar



Angin



Air



Panas Bumi

