



Lembar Kerja Peserta Didik

LKPD



TEMA : PERUBAHAN SIFAT BENDA



NAMA :

.....

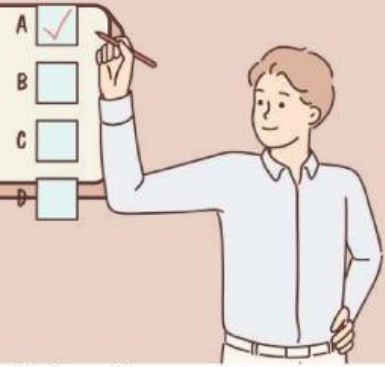
KELAS :

.....

MATERI



PELATIHAN



1. Berdasarkan wujudnya, benda-benda di sekitar kita dapat dikelompokkan menjadi
 - a. 2 jenis
 - b. 3 jenis
 - c. 4 jenis
 - d. 5 jenis
2. Asap termasuk benda
 - a. padat
 - b. cair
 - c. gas
 - d. tak terlihat
3. Sifat benda gas adalah
 - a. bentuk dan ukurannya tetap
 - b. bentuknya tetap, ukurannya berubah-ubah
 - c. bentuk dan ukurannya berubah-ubah
 - d. bentuknya berubah, ukurannya tetap
4. Apabila air yang terdapat dalam gelas kita pindahkan ke dalam botol, maka bentuknya menjadi
 - a. seperti gelas
 - b. seperti botol
 - c. seperti udara
 - d. tidak berbentuk
5. Es termasuk benda
 - a. padat
 - b. cair
 - c. gas
 - d. bening

ESAI



PERUBAHAN WUJUD BENDA

Menulis peristiwa perubahan wujud benda

Tulis perubahan wujud benda yang terjadi pada bagan berikut.



1

4

2

5



3

6


MENJODOHKAN

PERUBAHAN WUJUD BENDA


Mengamati perubahan wujud benda pada kehidupan sehari-hari



Air yang dimasukkan ke dalam freezer akan membeku menjadi es batu. Hal ini menyatakan bahwa perubahan wujud benda dari cair ke padat disebut membeku.



Air yang direbus di dalam panci akan mendidih ditandai dengan keluarnya uap panas. Hal ini menyatakan bahwa perubahan wujud benda dari cair ke gas disebut menguap.



Es krim yang beku berubah wujud menjadi cair ketika berada di suhu ruangan. Hal ini menyatakan bahwa perubahan wujud benda dari padat ke cair disebut mencair.