

SD NEGERI TERONG

LKPO

★ LEMBAR KERJA PESERTA DIDIK

Mata Pelajaran Matematika

Fase B/kelas Iv

Ciri-ciri Bangun Datar



A. Capaian Pembelajaran

a. Capaian Umum

Peserta didik dapat mendeskripsikan ciri berbagai bentuk bangun datar (segiempat, segitiga, segi banyak).

b. Capaian per elemen

Peserta didik mampu merefleksikan bentuk bangun datar geometri dalam bentuk bangunan rumah adat kebudayaan Indonesia.



B. Tujuan Pembelajaran

a. Afektif

1. Peserta Didik dapat membiasakan mengenal dan menghargai kebudayaan melalui pengamatan bentuk bangun datar pada rumah adat di Indonesia dengan baik. (A5)
2. Peserta didik dapat menunjukkan sikap bernalar kritis melalui pembelajaran tentang ciri-ciri bangun datar dengan baik (A5).
3. Peserta didik dapat membangun sikap kerja sama dalam kelompok melalui pembelajaran bangun datar yang dikaitkan dengan bentuk rumah adat dengan baik (A3).

b. Kognitif



1. Peserta didik dapat menjelaskan ciri-ciri bangun datar melalui pengamatan terhadap bagian rumah adat dengan benar (C2).
2. Peserta didik dapat menelaah bagian-bagian rumah adat yang mengandung bentuk bangun datar dengan tepat (C4).



3. Peserta didik dapat mengelompokkan berbagai bentuk bangun datar berdasarkan kesamaan ciri dan penggunaannya pada arsitektur rumah adat dengan tepat (C4).


c. Psikomotor

1. Peserta didik dapat mempresentasikan hasil diskusi kelompok mengenai pembelajaran ciri-ciri bangun datar dengan baik (P3)





Petunjuk Penyelesaian LKPD

1. Berdoa sebelum meemulai mengerjakan LKPD
 2. Perhatikan dan baca bahan ajar yang guru telah sajikan
 3. Baca dan pahami instruksi dengan teliti.
 4. Identifikasi tujuan dan materi yang dibahas
 5. Kerjakan soal-soal dan perintah dengan teliti dan sistematis.
 6. Gunakan rumus dan konsep yang sesuai materi dan bahan ajar.
 7. Periksa kembali jawaban Anda untuk memastikan keakuratan.
 8. Tuliskan jawaban dengan jelas dan rapi.
 9. Selesaikan LKPD dengan sungguh-sungguh.
- 

KEGIATAN 1

MENJELASKAN CIRI-CIRI BANGUN DATAR

Petunjuk Pengerjaan

1. Tuliskan nama dan nomor absenmu di bagian atas lembar kerja!
2. Isilah kolom "Nama bangun" sesuai dengan nama masing-masing bangun datar yang ditunjukkan.
3. Lengkapi kolom "Sifat-sifat" (Jumlah sisi, Jumlah sudut, Ciri khusus
4. Kerjakan dengan rapi dan jujur, jangan lupa untuk membaca kembali jawabanmu sebelum dikumpulkan.

Nama :

Absen :

Gambar	Nama Bangun	Sifat-sifat	Contoh Bneda
		Sifat : Sudut : Ciri Khusus :	
		Sifat : Sudut : Ciri Khusus :	
		Sifat : Sudut : Ciri Khusus :	



Sifat :
Sudut :
Ciri Khusus :



Sifat :
Sudut :
Ciri Khusus :



Sifat :
Sudut :
Ciri Khusus :



Sifat :
Sudut :
Ciri Khusus :



Sifat :
Sudut :
Ciri Khusus :



Sifat :
Sudut :
Ciri Khusus :

KEGIATAN 2

MENELAAH BENTUK BANGUN DATAR

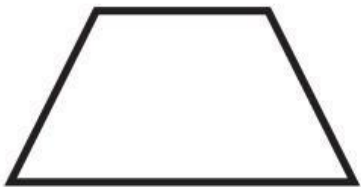


Petunjuk Pengerjaan

1. Simaklah video dibawah ini dengan teliti!
2. Analisislah bentuk bangun datar yang ada pada rumah adat dalam video!
3. Setelah itu tulis pada tabel dibawah ini





Video Pembelajaran
Rumah Adat di Indonesia

Bangun Datar	Bagian Rumah Adat
 Trapeسيوم	Pendopo Rumah Joglo
.....
.....

KEGIATAN 3

MENGELOMPOKKAN BENTUK BANGUN DATAR

Alat dan Bahan yang Dibutuhkan:

- Gunting
- Lem kertas 
- Pensil 



Langkah-Langkah Pengerjaan:

1. Amati gambar rumah adat yang ada di lembar gambar pada halaman selanjutnya.
2. Tentukan bentuk bangun datar yang kalian lihat dari rumah adat tersebut. Misalnya:
 - Atap → Segitiga
 - Jendela → Persegi panjang
3. Potong bagian-bagian gambar rumah adat tersebut sesuai garis putus-putus yang telah disiapkan.
4. Kelompokkan potongan gambar sesuai bentuk bangun datarnya.
5. Tempelkan potongan gambar pada lembar tempel bangun datar.


LEMBAR GAMBAR RUMAH ADAT

Potong bagian gambar yang berbentuk seperti bangun datar, lalu tempelkan pada kolom yang sesuai di halaman berikutnya !!

Rumah Tongkonan



Rumah Joglo



LEMBAR GAMBAR RUMAH ADAT

Rumah Gadang



Rumah Dulohupa



LEMBAR TEMPEL BANGUN DATAR



Kelompok Segitiga

Tempel semua potongan berbentuk segitiga di sini:



Kelompok Persegi Panjang

Tempel semua potongan berbentuk persegi panjang di sini:

LEMBAR TEMPEL BANGUN DATAR



Kelompok Persegi

Tempel semua potongan berbentuk Persegi di sini:



Kelompok Trapesium

Tempel semua potongan berbentuk trapesium di sini:



AYO DISKUSIKAN BERSAMA TEMAN KELOMPOKMU!

Bentuk yang paling sering kamu temukan
dari rumah adat adalah

