

**1.** Чи погоджуєшся ти з твердженням? По-знач .

**Людина має найдосконалішу будову тіла й найскладнішу поведінку в природі.**

Так

Ні

**2.** Обери й обведи. Яка система органів відсутня в організмі людини?

**А** опорно-рухова

**Б** шкіряна

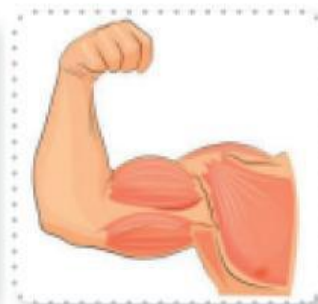
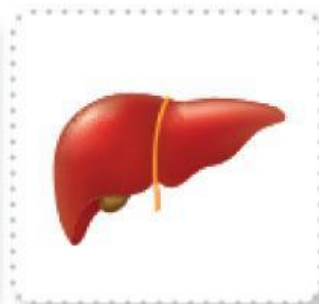
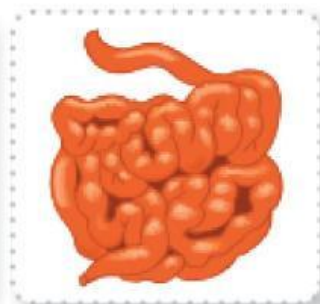
**В** кровоносна

**Г** сечовидільна

**3.** Допиши речення.

Здатність організму протидіяти збудникам захворювань, а також впливу шкідливих речовин називають \_\_\_\_\_.

**4.** Обери й обведи. Що належить до опорно-рухової системи людини?



**5.** З'єднай лініями. Яку роботу виконують системи органів нашого тіла?

Опорно-рухова система

Переносить повітря, здійснює газообмін між організмом і навколишнім середовищем.

Дихальна система

Виводить з організму шкідливі речовини та зайву воду.

Сечовидільна система

Захищає органи, надає міцності й форми тілу, виконує рухи.

**6.** Як треба діяти в разі харчового отруєння? Обери правильні дії.

- А** повідомити про погане самопочуття батьків
- Б** випити близько двох літрів прохолодної води
- В** випити якісь пігулки
- Г** очистити організм, викликавши блювання
- Д** викликати швидку медичну допомогу

**7.** Склади рекламу про користь догляду за зубами.

---

---

### МОЇ УСПІХИ

Що ти відчуваєш?	Якими були для тебе завдання?
<input type="checkbox"/> перемогу	<input type="checkbox"/> цікавими
<input type="checkbox"/> втому	<input type="checkbox"/> простими
<input type="checkbox"/> байдужість	<input type="checkbox"/> важкими