

LKPD

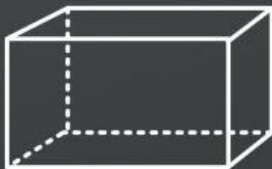
Matematika

Kelas 5

Materi “Bangun Ruang
Sisi Datar”



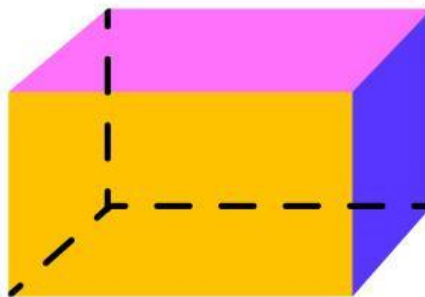


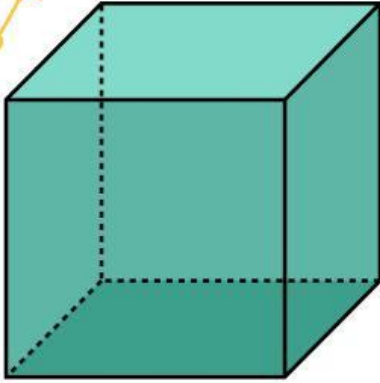
Bangun Ruang



Nama :

Kelas :

Tulislah nama-nama bangun ruang
sisi datar di bawah ini.



Hubungkan nama benda dengan bentuknya.



•

Kerucut

•



•

Kubus

•



•

Balok

•



•

Bola

•



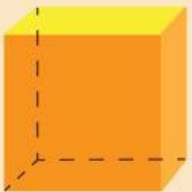



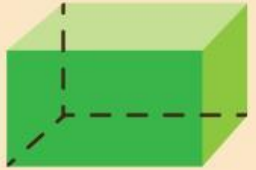
•

Tabung

•



Tuliskan banyaknya sisi, sudut, dan rusuk bangun ruang sisi datar pada tabel di bawah ini.

No	Bangun Ruang	Bagian- bagian
1.		<ul style="list-style-type: none"> • Sisi: • Sudut: • Rusuk:
2.		<ul style="list-style-type: none"> • Sisi: • Sudut: • Rusuk:
3.		<ul style="list-style-type: none"> • Sisi: • Sudut: • Rusuk:
4.		<ul style="list-style-type: none"> • Sisi: • Sudut: • Rusuk:
5.		<ul style="list-style-type: none"> • Sisi: • Sudut: • Rusuk: