

► SCRIVI IL NUMERO PRECEDENTE E IL NUMERO SUCCESSIVO

	10	
--	----	--

	9	
--	---	--

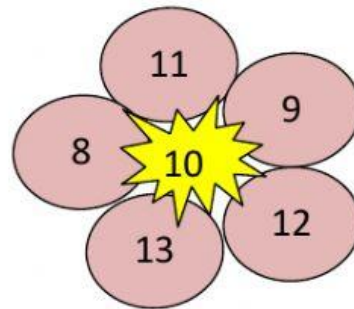
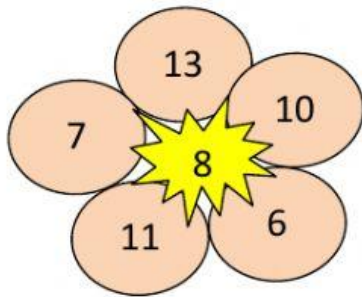
	11	
--	----	--

	12	
--	----	--

	7	
--	---	--

	1	
--	---	--

► CLICCA SOLO I NUMERI MAGGIORI DI QUELLO AL CENTRO




► UNISCI PAROLA E NUMERO

DIECI
TREDICI
QUATTRO
NOVE
DODICI
SEI
UNDICI
SETTE

4
6
7
9
10
11
12
13

► COMPLETA LA LINEA DEI NUMERI



► RISOLVI LE OPERAZIONI AIUTANDOTI CON LA LINEA

$5 + 4 =$

$9 + 3 =$

$10 - 2 =$

$3 + 4 =$

$8 + 3 =$

$12 - 1 =$

$5 + 5 =$

$6 + 6 =$

$8 - 3 =$

$7 + 2 =$

$10 + 3 =$

$11 - 2 =$

► AIUTA TOPOLINO A RAGGIUNGERE MINNIE COMPLETANDO LA CATENA DEI CALCOLI

