

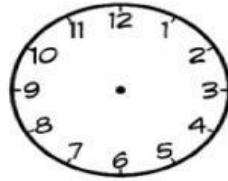
Câu 1. Số gồm 3 trăm, 0 đơn vị và 4 chục được viết là?

- A. 304 B. 403 C. 430 D. 340

Câu 2. Dãy số nào được viết theo thứ tự giảm dần?

- A. 111; 211; 11; 112; 212 C. 211; 212; 111; 112; 11
B. 212; 211; 112; 111; 11 D. 11; 111; 112; 211; 212

Câu 3. Em hãy vẽ thêm kim giờ, kim phút để đồng hồ chỉ thời gian tương



7 giờ.

ứng.

Câu 4. Đồ vật nào sau đây có hình khối trụ?

- A. Quả bóng C. Lon nước
B. Thùng gỗ vuông D. Hộp chữ nhật

Câu 5. Trong chuồng có 5 con lợn. Mỗi con lợn có 4 chân. Hỏi có tất cả bao nhiêu chân lợn?

- A. 14 B. 5 C. 25 D. 20

Câu 6. Tìm tổng biết số hạng lần lượt là số tròn chục lớn nhất có hai chữ số và số tròn trăm lớn nhất có ba chữ số ?

- A. 990 B. 999 C. 90 D. 900

Câu 7. Phép tính $7 \times 2 = 14$ được gọi là gì?

- A. Số bị chia B. Tích C. Thừa số D. Thương

Câu 8. Đồng hồ nào sau đây chỉ 22 giờ 30 phút?



A. Hình 1



B. Hình 2



C. Hình 3



D. Hình 4

Câu 9. Khối cân tìm nặng bao nhiêu ki-lô-gam?



- A. 3kg B. 2kg C. 1kg D. 4kg

Câu 10. Số hai trăm bảy mươi chín được viết như thế nào?

- A. 297 B. 729 C. 279 D. 277

Câu 11. Nếu thứ Hai tuần này là ngày 14 tháng 3 thì thứ Tư tuần sau là ngày bao nhiêu?

- A. 21 tháng 3 B. 22 tháng 3 C. 23 tháng 3 D. 24 tháng 3

Câu 12. Khối nào phù hợp với chỗ trống?



- A. Khối cầu B. Khối trụ C. Khối hộp chữ nhật D. Khối lập phương

Câu 13. Số gồm 2 trăm 7 chục 2 đơn vị được viết như thế nào?

- A. 227 B. 272 C. 227 D. 207

Câu 14. Số 728 được viết thành tổng các số hạng nào sau đây?

- A. $700 + 80 + 2$ B. $700 + 2$
C. $700 + 20 + 8$ D. $800 + 70 + 2$

Câu 15. Số bé nhất có 3 chữ số khác nhau là số nào?

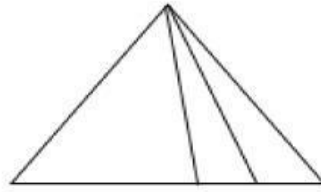
- A. 100 B. 102 C. 101 D. 111

Câu 16. Kết quả của phép tính $205\text{km} + 145\text{km}$ là bao nhiêu?

- A. 340 km B. 304 km C. 350 km D. 214km

Câu 17. Hình bên có mấy hình tam giác?

- A. 4 B. 5
C. 6 D. 8



Câu 18. Giờ vào học buổi sáng là 7 giờ 15 phút. Sáng nay, Phong vào học muộn 15 phút. Vậy sáng nay Phong vào học lúc mấy giờ?

- A. 7 giờ B. 7 giờ 30 phút C. 6 giờ 15 phút D. 6 giờ 30 phút

Câu 19. Số 840 được viết thành?

- A. $800 + 400 + 4$ B. $800 + 40$
C. $800 + 4$ D. $40 + 800$

Câu 20. Dãy số nào được viết theo thứ tự tăng dần?

- A. 560; 790; 709; 10; 150 B. 10; 790; 560; 150; 709
C. 709; 150; 560; 790; 10 D. 10; 150; 560; 709; 790

Câu 21. Đồng hồ chỉ mấy giờ?

- A. 10 giờ 3 phút
B. 3 giờ 50 phút
C. 10 giờ 15 phút
D. 3 giờ 00 phút



Câu 22. Số lẻ lớn nhất có ba chữ số là?

- A. 999 B. 900 C. 100 D. 1000

Câu 23. Có 20 bông hoa cắm đều vào 5 bình. Hỏi mỗi bình cắm bao nhiêu bông hoa?

- A. 4 bông hoa B. 24 bông hoa C. 16 bông hoa D. 5 bông hoa

Câu 24. Ngày 23 tháng 04 là ngày Thứ Ba. Vậy ngày 30 tháng 04 là ngày thứ mấy?

- A. Thứ Hai B. Thứ Ba C. Thứ Tư D. Thứ năm

Câu 25. Số chẵn lớn nhất có ba chữ số là số nào?

- A. 998 B. 990 C. 900 D. 98

Câu 26. Số thích hợp để điền vào chỗ chấm để $167 > \dots$ là số nào?

- A. 452 B. 165 C. 243 D. 169

Câu 27. So sánh $1\text{km} \dots\dots\dots 300\text{m} + 600\text{m}$?

- A. $<$ B. $>$ C. $=$ D. $+$

Câu 28. Kết quả của phép tính $2\text{ kg} \times 6$ là số nào?

- A. 6 kg B. 8 kg C. 10 kg D. 12 kg

Câu 29. Nối mỗi đồng hồ vào số giờ thích hợp.



1.

A

8 giờ 30 phút



2.

B

16 giờ 15 phút



3.

C

13 giờ 30 phút

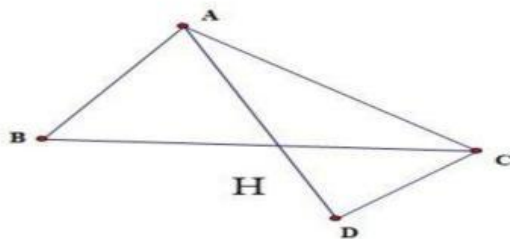


4.

D

9 giờ 15 phút

Câu 30. Trong hình bên dưới có bao nhiêu hình tam giác?



A. 5

B. 2

C. 3

D. 4