

LKPD

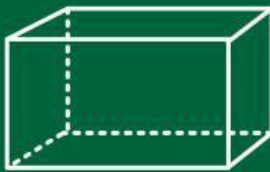
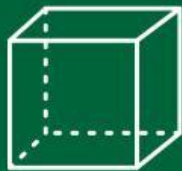
Matematika

Tema:

Bangun Ruang



Bangun Ruang




Kelas : _____

Kelompok : _____

Nama Anggota : _____

Menebak


Amati gambar makanan berikut, lalu tebak bentuk bangun ruangnya!



Klepon ini berbentuk....



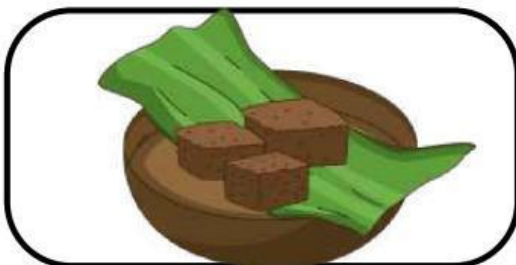
Tumpeng ini berbentuk....



Lemang ini berbentuk....



Kue lapis ini berbentuk....



Kue wajik ini berbentuk....

Menjodohkan

Amati ciri-cirinya, tarik garis yang memiliki ciri-ciri tersebut pada gambar di sebelahnya

Aku memiliki 6 sisi sama besar, semua berbentuk persegi, bangun ruang apakah aku?



Aku memiliki alas dan tutup lingkaran, sisi lainnya melengkung, bangun ruang apakah aku?



Satu sisiku melengkung, aku berbentuk bulat sempurna, bangun ruang apakah aku?



Alasku berbentuk lingkaran, ujungku runcing di atas, bangun ruang apakah aku?



Aku memiliki 6 sisi, tidak semua sama besar, bentukku seperti kotak susu, bangun ruang apakah aku?



Mengelompokkan

Kelompokkan makanan daerah berdasarkan jenis bentuk bangun ruangnya

1. Mana saja makanan dengan bangun ruang bola?


2. Mana saja makanan dengan bangun ruang kerucut ?



3. Mana saja makanan dengan bangun ruang balok?



4. Mana saja makanan dengan bangun ruang tabung?



3. Mana saja makanan dengan bangun ruang kubus?

