

Nama :

Nomor Induk :



PEMERINTAH KABUPATEN GUNUNGKIDUL
DINAS PENDIDIKAN
KORWIL BIDANG PENDIDIKAN KAPANEWON PANGGANG
Alamat : Jalan Panggang – Wonosari, Giriharjo, Panggang, Gunungkidul 55872

ASESMEN MADRASAH (AM)
TAHUN PELAJARAN 2024/2025

Mata Pelajaran : Matematika
Kelas : IV (Enam)

Hari, Tanggal : Jumat, 25 April 2025
Pukul : 09.30 – 11.00 WIB

Berilah tanda silang (X) pada huruf a, b, c, atau d di depan jawaban yang paling tepat!

1. Berikut merupakan contoh gambar cerita ...

A.



C.



B.



D.



2. Gambar ini memindahkan obyek benda pada bidang gambar secara nyata, sama halnya dengan kamera menangkap obyek menjadi gambar foto. Gambar ini seperti apa yang kita lihat atau yang kita tangkap dengan indera penglihatan kita. Bentuk dan warna gambar meniru seperti alam nyata atau naturalis. Namun bisa saja gambar ini disajikan dengan mengubah bentuk objek aslinya dengan tanpa menghilangkan ciri khasnya. Gambaran tersebut merupakan gambar ...

- A. realis
- B. kartun
- C. karikatur
- D. dekoratif

3. Langkah-langkah membuat gambar bercerita dengan benar adalah ...

- A. menyiapkan alat, menentukan tema, penyelesaian gambar
- B. menentukan tema, persiapan alat, membuat sketsa, penyelesaian gambar
- C. menentukan tema, membuat sketsa, menyiapkan alat, penyelesaian gambar
- D. menyiapkan alat, menentukan tema, pembuatan sketsa, penyelesaian gambar

4. Ciri-ciri tangga nada diatonis minor adalah ...

- A. riang gembira, bersemangat
- B. riang gembira, pemberani
- C. sedih, kurang bersemangat
- D. sedih, mendayu-dayu

5. Berikut merupakan interval (jarak nada) tangga nada diatonis minor ...

- A. $1 - \frac{1}{2} - 1 - 1 - \frac{1}{2} - 1 - 1$
- B. $1 - 1 - \frac{1}{2} - 1 - 1 - 1 - \frac{1}{2}$
- C. $1 - \frac{1}{2} - 1 - 1 - \frac{1}{2} - 1 - \frac{1}{2}$
- D. $1 - 1 - \frac{1}{2} - 1 - 1 - \frac{1}{2} - 1$

6. Lagu berikut termasuk dalam tangga nada mayor ...

- A. Maju tak Gentar, Hymne Guru, Halo-halo Bandung
- B. Maju tak Gentar, Halo-halo Bandung, Hari Merdeka
- C. Hymne Guru, Gugur Bunga, mengheningkan Cipta
- D. Halo-halo Bandung, Mengheningkan Cipta, Syukur

7. Perhatikan gambar berikut!



Tari pada gambar di samping menggunakan properti ...

- A. Gelang
- B. Ikat kepala
- C. Selendang
- D. Sapu tangan

8. Perhatikan gambar berikut!



Fungsi utama kuda kepang pada tarian di samping adalah ...

- A. sebagai hiasan
- B. pelengkap tarian
- C. memberikan keindahan
- D. ciri khas atau tema tarian

9. Bacalah dengan seksama ilustrasi berikut!

Musik untuk mengiringi penari sehingga menciptakan gerakan yang lebih bermakna dan terciptanya harmonisasi serta keindahan. Penari dan penggiring musik harus saling berkaitan agar pesan yang ingin disampaikan pada penonton dapat tersampaikan dengan baik. Misalnya, jika pesan yang ingin disampaikan adalah tentang rasa sedih, maka gerakan, ekspresi penari serta iringan musik harus menunjukkan rasa sedih. Iringan yang digunakan dapat berupa rekaman musik yang menggunakan instrumen seperti kecapi, seruling, tepuk tangan, hentakan kaki, maupun nyanyian.

Unsur tari yang terdapat dalam ilustrasi tersebut adalah ...

- A. wicara
- B. wiraga
- C. wirasa
- D. wirama

10. Di bawah ini merupakan tujuan pembuatan reklame non komersial ...
- meningkatkan kesadaran masyarakat tentang berbagai masalah
 - mempromosikan produk/jasa dan atau perumahan
 - memberikan informasi, peringatan, dan penerangan
 - pemberitahuan dan penjelasan serta himbauan


11. Perhatikan gambar berikut!



Proses membuat batik tulis pada gambar di samping dinamakan ...

- membuat pola
- membatik
- nemboki
- nglorot

12. Perhatikan gambar berikut!



Gambar motif batik di samping berasal dari daerah ...

- Yogyakarta
- Madura
- Cirebon
- Surakarta

13. Perhatikan pernyataan berikut!

- Reklame yang berisi peringatan untuk membayar pajak
- Reklame tentang penawaran barang/jasa/perumahan
- Reklame berisi ajakan untuk menjaga kebersihan lingkungan
- Reklame tentang peringatan untuk selalu taat aturan lalu lintas

Berdasarkan pernyataan tersebut, yang termasuk reklame berdasarkan sifatnya adalah

- ii dan iii
- i dan iv
- ii dan iv
- i dan iii

14. Perhatikan gambar berikut!

A



B



C



Jenis reklame tersebut berdasarkan urutan A, B, dan C adalah ...

- poster, spanduk, baliho
- spanduk, brosur, poster
- brosur, poster, spanduk
- spanduk, poster, brosur


15. Perhatikan gambar berikut!



Reklame seperti pada gambar tersebut dinamakan ...

- A. Ambalase
- B. Buklet
- C. Baliho
- D. brosur


16. Perhatikan gambar berikut!



Gambar tersebut merupakan reklame jenis ...

- A. Embalase
- B. Pamflet
- C. Leaflet
- D. Buklet

17. Perhatikan gambar!



Gambar tersebut merupakan tangga nada jenis ...

- A. diatonis harmoni
- B. pentatonis mayor
- C. diatonis mayor
- D. diatonis minor

18. Perhatikan gambar!



Poster tersebut mempunyai tujuan ...

- A. menambah ilmu dengan membaca
- B. membaca membuat kita kaya
- C. ajakan untuk membaca bila perlu
- D. hanya orang hebat yang membaca

19. Perhatikan gambar berikut!



Informasi yang didapatkan dari gambar tersebut adalah ...

- A. ada tempat sampah dan sapu di sekolah
- B. mengajak untuk menjaga kebersihan sekolah
- C. menginformasikan tentang kegunaan sapu
- D. mengimbau agar menyapu di sekolah

20. Jarak antara nada yang satu dengan nada yang lain disebut ...
- akor
 - harmoni
 - melodi
 - interval
21. Susunan berjenjang misalnya do, re, mi, fa, sol, la, si, do disebut...
- interval nada
 - tangga nada
 - nada pangkal
 - nada selang
22. Seruling, pianika, harmonika, sarone, dan telempong merupakan jenis dari alat musik yaitu...
- diatonis
 - ritmis
 - melodi
 - pentatonic

23. Perhatikan gambar berikut ini!



- Tarian pada gambar di atas menggunakan pola lantai ...
- lurus
 - zig-zag
 - lingkaran
 - melengkung
24. Pola interval pada tangga nada mayor adalah ...
- $1 \frac{1}{2} \ 1 \ 1 \frac{1}{2} \ 1 \ 1$
 - $1 \ 1 \frac{1}{2} \ 1 \ 1 \ 1 \frac{1}{2}$
 - $1 \ 1 \frac{1}{2} \ 1 \ \frac{1}{2} \ 1 \ 1$
 - $1 \ 1 \ 1 \ \frac{1}{2} \ 1 \ 1 \ \frac{1}{2}$
25. Patung yang terbuat dari kayu dibuat dengan teknik ...
- cetak
 - tekan
 - pahat
 - cora
26. Diana dan teman-temannya sedang berlatih menari tarian khas daerah. Pada saat menari mereka membentuk garis lingkaran. Pola lantai yang digunakan dalam tarian tersebut adalah ...
- zig – zag
 - Vertikal
 - Melengkung
 - Horisontal

27. Perhatikan gambar tarian dibawah ini!



Tarian tersebut berasal dari daerah ...

- A. Sumatera Barat
- B. Kalimantan
- C. Sulawesi
- D. Sumatera Utara

28. Perhatikan tari dibawah ini!



Property yang digunakan dalam tarian diatas adalah ...

- A. Atasan, selendang, sanggul, cunduk menthul, kalung dan gelang, anting-anting, jarit, serta sampur
- B. Atasan, keris, selendang, gelang
- C. Atasan, kain, lilin, gelang, anting
- D. Atasan, keris, payung, jarit, sampur

29. Tari Jaipong dimainkan pada waktu ...

- A. Kematian
- B. Penyambutan tamu
- C. Penyambutan bayi lahir
- D. Pernikahan

30. Tari Saman berasal dari daerah ...

- A. Jawa Barat
- B. Papua
- C. Aceh
- D. Sumatera

31. Contoh bahan lunak pembuatan patung adalah ...

- A. Kayu
- B. Tanah liat
- C. Batu
- D. Pasir

32. Perhatikan gambar dibawah ini!



Teknik pembuatan patung pada gambar diatas adalah ...

- A. Ukir
 - B. Butsir
 - C. Merakit
 - D. Pahat
33. Di bawah ini adalah bahan-bahan yang dapat dibuat patung, kecuali ...
- A. Pasir
 - B. Kayu
 - C. Batu
 - D. Lilin

34. Perhatikan gambar dibawah ini!



Fungsi dari patung diatas adalah ...

- A. Menjadi produk dagangan
 - B. Mengenang jasa pahlawan
 - C. Penunjang bangunan
 - D. Memperindah ruangan
35. Perhatikan Langkah-langkah membuat patung dari tanah liat berikut!
1. Ambil adonan tanah liat.
 2. Uleni atau pijat adonan tanah liat dengan menambahkan air sedikit demi sedikit sampai membentuk tekstur yang diinginkan.
 3. Tekan-tekan adonan tanah liat dan bentuk sesuai dengan yang diinginkan dan ukir sesuai keinginan.
 4. Jemur patung dari tanah selama dua sampai tiga hari di bawah sinar matahari.
 5. Patung tanah liat bisa dibakar agar hasilnya semakin kuat dan tidak mudah hancur.
 6. Warnai patung dari tanah liat agar tampak lebih indah.

Urut-urutan cara pembuatan patung dari tanah liat yang benar adalah ...

- A. 1-2-3-4-5-6
- B. 2-1-3-5-4-6
- C. 3-2-1-4-5-6
- D. 1-3-2-4-5-6

36. Dibawah ini merupakan ciri-ciri batik modern adalah ...

- A. Corak pada batik mengandung makna khusus.
- B. Corak batik biasanya berbentuk tumbuhan, rangkaian bunga, dan lain-lain.
- C. Warna batik cenderung tidak bebas
- D. Bahannya kasar

37. Perhatikan gambar dibawah ini!



Gambar disamping termasuk jenis media visual ...

- A. Spanduk
- B. Buklet
- C. Poster
- D. Baliho

38. Tangga nada diatonis dibagi menjadi dua jenis tangga nada, yaitu tangga ...

- A. Nada mayor dan minor
- B. Nada tinggi dan rendah
- C. Nada mayor dan rendah
- D. Nada tinggi dan minor

39. Perhatikan gambar tarian dibawah ini!



Tarian disamping berasal dari daerah ...

- a. Sulawesi Selatan
- b. Sulawesi Utara
- c. Kalimantan
- d. Jawa Barat

40. Jarak antara dua buah nada dikenal sebagai

- A. Suara
- B. Not
- C. Interval
- D. Bunyi