

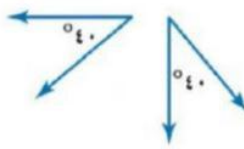


## ورقة عمل للصف السادس الابتدائي

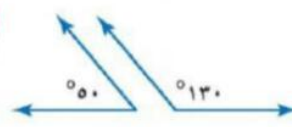
### درس : العلاقات بين الزوايا

م الطالب/ة :

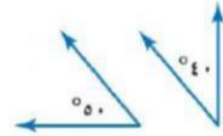
ت كلاً من أزواج الزوايا الآتية إلى : متتامتين ، أو متكاملتين ، أو غير ذلك :



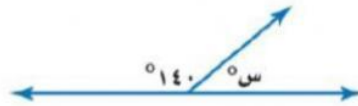
٣



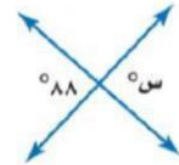
٢



حدد قيمة س في الأشكال التالية:



٢



أ/ سارا البندر