



Свържи всяка пчела с правилния буркан мед, като спазиш реда на аритметичните действия.


$$30 + 2.4$$




56


$$20 + 6.6$$




5


$$3.4 - 7$$




38


$$7.6 - 10$$




20


$$(15 - 10) \cdot 4$$



10


$$72 : 8 + 1$$



32

n