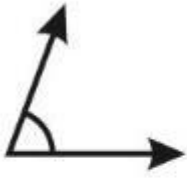
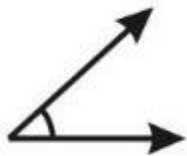


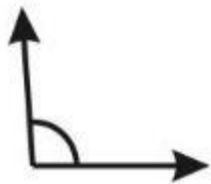
Relaciona los ángulos con su nombre correcto:



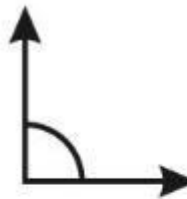
• Ángulo agudo



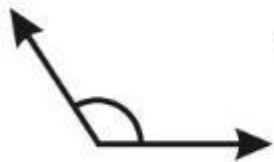
• Ángulo obtuso



• Ángulo obtuso



• Ángulo agudo



• Ángulo recto



• Ángulo agudo