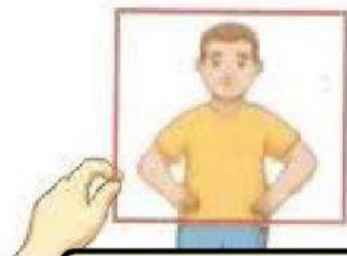
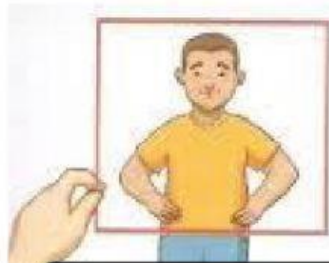





## ATIVIDADE DE CIÊNCIAS

1- ARRASTE AS PALAVRAS E COLOQUE-AS ABAIXO DA IMAGEM QUE ILUSTRA UM MEIO TRANSPARENTE, TRANSLÚCIDO OU OPACO.



FONTE: <https://mundoeducacao.uol.com.br/>



OPACO

TRANSPARENTE

TRANSLÚCIDO

2- OBSERVE OS OBJETOS E MARQUE X NA OPÇÃO CORRETA:

A- O VIDRO DO AQUÁRIO É:



- ( ) TRANSPARENTE  
( ) TRANSLÚCIDO  
( ) OPACO

Fonte: <https://www.freeimages.com/>

B- A CAIXA DE PRESENTE É:



- ( ) TRANSPARENTE  
( ) TRANSLÚCIDA  
( ) OPACA

Fonte: <https://br.freepik.com/>

C- O VIDRO DO ESCRITÓRIO É:



- ( ) TRANSPARENTE  
( ) TRANSLÚCIDO  
( ) OPACO

Fonte: <https://brasilescola.uol.com.br/>

NÃO SE ESQUEÇA DE  
VERIFICAR SE ACERTOU  
TODA A ATIVIDADE,  
CLICANDO EM FINISHI E  
DEPOIS NA LUPA!

