

Прізвище ім'я

**Контрольна робота з інформатики за рік
4 клас**





1. Перенеси орган чуття до відповідної властивості об'єкта

Запашний	Холодний	Солодкий
		

2. Вибери серед варіантів судження

- Післязавтра обіцяють сонячну погоду.
- Вчора було хмарно.
- В 1 сантиметрі 10 міліметрів.
- На столі стоїть склянка.

3. Розподіли іконки

Операційні системи	Прикладні програми
	
	

4. Укажи зовнішні пристрої для зберігання інформації



5. Вибери папку з файлами



6. Розглянь об'єкт та познач, яку властивість змінили



колір

кількість складових

розмір

матеріал

7. Визнач, яку дію можна виконати за допомогою позначеного маркера



стерти

зміна ширини і висоти

відкрити довідку

зберегти

8. Познач правильну відповідь.

У команді «Якщо — то — інакше» після «інакше» записують послідовність команд, які необхідно виконати, коли







- записане в умові висловлювання є хибним
- натиснуто зелений прапорець
- записане в умові висловлювання є істинним

9. Познач висловлювання, якому відповідає наведена умова

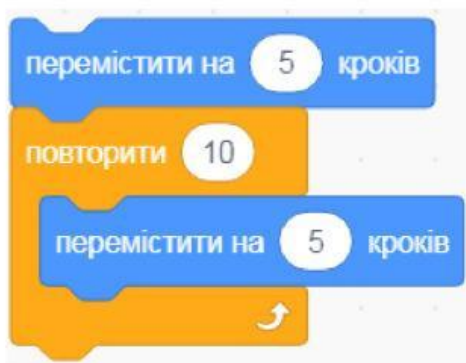


- Натиснуто клавiшу *Пропуск*.
- Натиснуто клавiшу *Стрiлка вгору*.
- Натиснуто клавiшу *a*.

10. Вибери команду циклу з лiчильником

-  коли  натиснуто
-  повторити 10 
-  поворот  на 10 градусiв

11. З'ясуй на скільки кроків переміститься виконавець у результаті виконання програми



- 55
- Не можна визначити
- 5

12. Вибери команду неповного розгалуження

