


LKPD

Ilmu Pengetahuan Alam

Tema: Sistem Pernapasan Manusia

Nama: _____

Kelas: _____

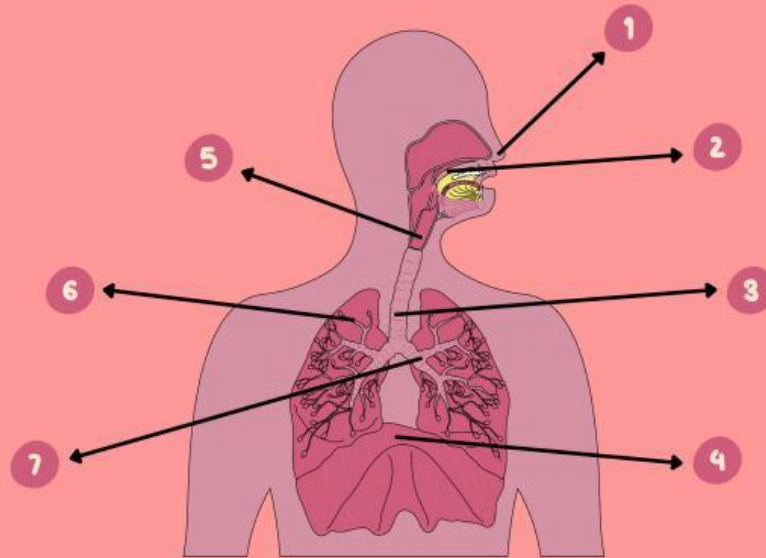


Nama:

Kelas:

Sistem Pernapasan Manusia

Berikanlah tanda centang (✓) pada kolom yang tepat sesuai tanda panah pada gambar organ pernapasan di bawah ini!



No.	Nama Organ	Benar	Salah
1.	Faring		
2.	Hidung		
3.	Laring		
4.	Tenggorokan		
5.	Paru-Paru		
6.	Bronkus		
7.	Diafragma		

Fungsi Organ-Organ Pernapasan

Hubungkan gambar dengan fungsinya yang sesuai.



Mengalirkan udara ke paru-paru.



Mengatur pernapasan.



Mengambil oksigen dan mengeluarkan karbon dioksida.



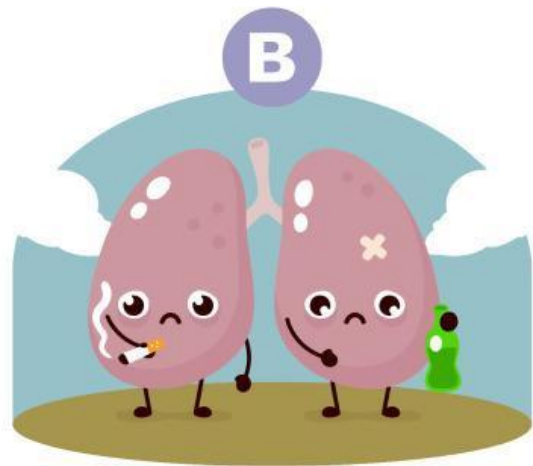

Menyaring dan melembapkan udara.



Tempat pertukaran gas.

Organ Paru-Paru

Perhatikan gambar, jawablah pertanyaan di bawah ini.



Pertanyaan:

- Apa yang kamu lihat dari gambar tersebut?

Jawab: _____

- Manakah gambar paru-paru yang sehat dan yang tidak sehat?

Jawab: _____

- Apa ciri-ciri dari paru-paru yang sehat dan tidak sehat?

Jawab: _____

- Apa yang menyebabkan paru-paru menjadi tidak sehat?

Jawab: _____

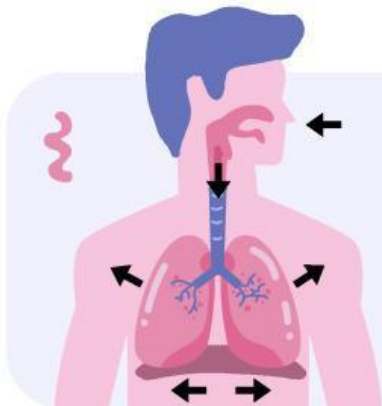
- Bagaimana cara agar paru-paru tetap sehat?

Jawab: _____

Nama: _____ Kelas: _____

PROSES PERNAPASAN MANUSIA

Jelaskan proses yang terjadi pada pernapasan manusia di kolom yang disediakan di bawah!

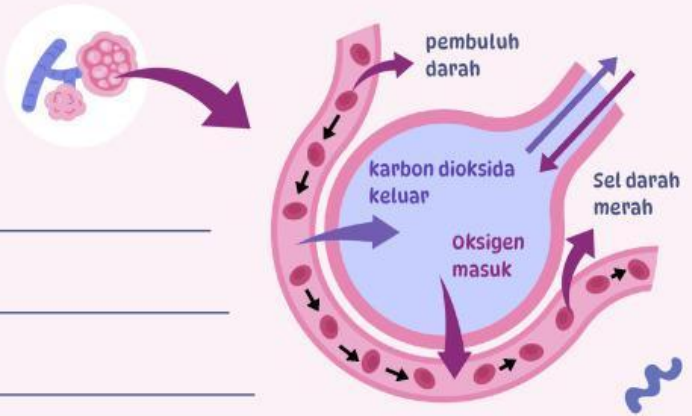


1 Menghirup napas

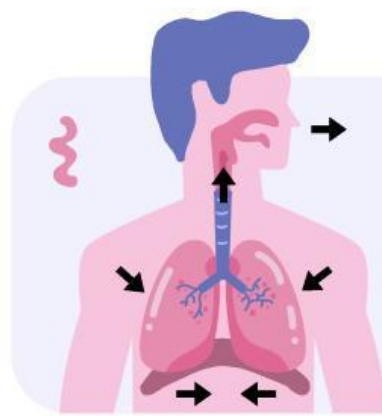
Proses yang terjadi: _____

2 Pertukaran antara oksigen dan karbon dioksida

Alveoli



Proses yang terjadi: _____



3 Mengembuskan napas

Proses yang terjadi: _____

