

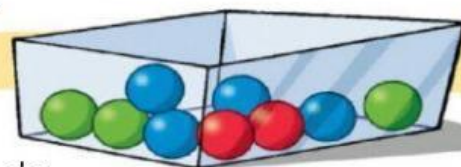
PROBABILITATEA

1) Dado bat botatzen baduzu, zein da...



12 zenbakia ateratzeko probabilitatea?	EZINEZKOA
bikoitia den zenbaki bat ateratzeko probabilitatea?	ZIURRA
0 eta 7 bitarteko zenbaki bat ateratzeko probabilitatea?	PROBABLEA
6 zenbakia ateratzeko probabilitatea?	POSIBLEA

2) Hutsuneak bete dagokion hitza txertatuz.



Bola hori bat ateratzea _____ da.

Bola urdin bat ateratzea _____ da.

Bola gorri bat ateratzea _____ da.

Bola berde, urdin edo gorri bat ateratzea _____ da.

ZIURRA

PROBABLEA

POSIBLEA

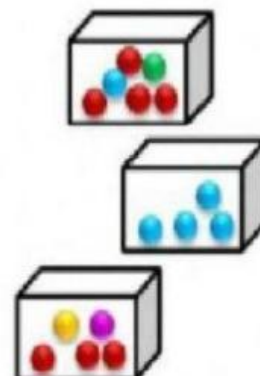
EZINEZKOA

3) Lot ezazu zuzena den probabilitate bakoitza ondoko kutxekin, kasu bakoitzean kutxatik bola bat ateratzen baduzu.


Ziurra da bola urdin bat ateratzea

Ez da oso probablea bola berde bat ateratzea

Ezinezkoa da bola urdin bat ateratzea



Irudia begiratu eta galderak erantzun.



• Zenbat bola daude guztira? _____

• Zenbat bola kolore bakoitzetik?

URDINAK =

HORIAK =

GORRIAK =

BERDEAK =

• Beraz, zein da kolore bakoitzetik bola bat ateratzeko probabilitatea?
(zatiki batekin adieraz ezazu)

URDINA =

GORRIA =

BERDEA =

HORIA =

• Bola bakar bat ateratzen baduzu, zein kolore da probabilitate gehien duena?

URDINA

GORRIA

BERDEA

HORIA

5) Adierazi kasu bakoitzean kolore bakoitza ateratzeko probabilitatearen zatikia.

