

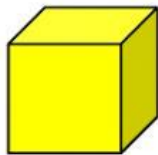
NAMA SISWA :
KELAS :

NO ABSEN :
TANGGAL :

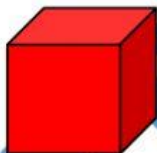
TEMA 7
VOLUME KUBUS DAN BALOK

A. PILIHLAH JAWABAN YANG PALING TEPAT !

- Bangun kubus mempunyai sisi sebanyak
A. 3
B. 4
C. 5
D. 6
- Balok mempunyai jumlah rusuk sebanyak
A. 15
B. 12
C. 6
D. 8
- Balok adalah bangun ruang yang sisinya paling banyak berbentuk
A. Segi empat
B. Layang-layang
C. Lingkaran
D. Persegi panjang
- Perbedaan antara balok dan kubus di antaranya adalah
A. Jumlah sisinya
B. Besar sudut-sudutnya
C. Jumlah rusuknya
D. Bentuk sisi-sisinya
- Pilihlah nama yang sesuai dengan nama bangun ruang di bawah ini !



6. Buatlah garis ke jawaban yang benar !



KUBUS




BALOK

7. Tariklah rumus yang sesuai dengan gambar !

Bangun ruang

Rumus



$$V = s \times s \times s$$

$$V = p \times l$$

$$V = p \times l \times t$$