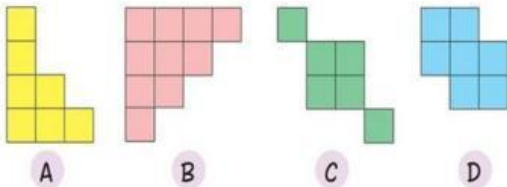


Tugas Matematika STS Genap kelas 4

1. $865 + 458 = \boxed{}$ $912 - 539 = \boxed{}$ $356 \times 12 = \boxed{}$ $958 : 2 = \boxed{}$

2. Perahtikan gambar dibawah ini



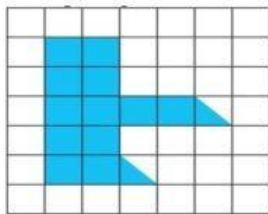
Jawab:

A. Luas bangun A jika digabung dengan bangun B =

B. Selisih Bangun D dengan bangun C =

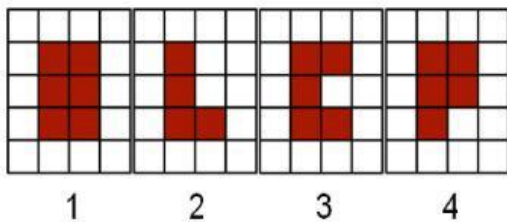
C. Jumlah Semua bangun jika digabung =

3. Perahtikan gambar dibawah ini



Luas Gambar yang diarsir adalah =

4. Perahtikan gambar dibawah ini, perhatikan luas bangun yang berwarna merah



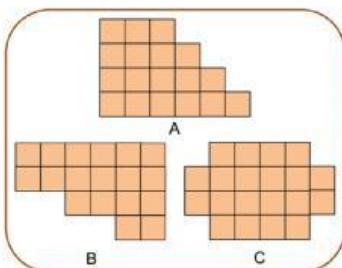
Jawab:

A. Luas bangun 1 jika digabung dengan bangun 2 =

B. Selisih Bangun 1 dengan bangun 2 =

C. Jumlah Semua bangun jika digabung =

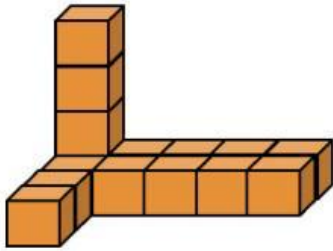
5. Perahtikan gambar dibawah ini, hitunglah luas masing masing bangun datar



Luas Gambar A dan gambar C jika digabung adalah =

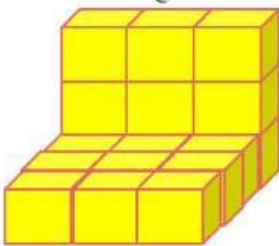
Selisih Luas Gambar B dengan A adalah =

6. Perahtikan gambar dibawah ini



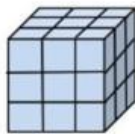
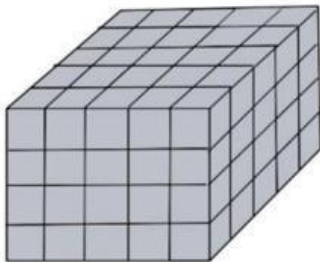
Volume bangun disamping adalah =

7. Perahtikan gambar dibawah ini



Volume bangun disamping adalah =

8. Perahtikan gambar dibawah ini



Volume bangun yang besar adalah =

Volume bangun yang kecil adalah =

Selisih Volume bangun yang besar dengan kecil adalah =

9. Perahtikan gambar dibawah ini

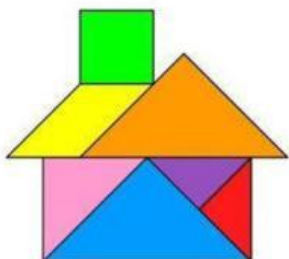


Jumlah Segitiga pada gambar disamping adalah ..

Jumlah Jajargenjang pada gambar disamping adalah ..

Jumlah persegi pada gambar disamping adalah ..

10. Perahtikan gambar dibawah ini



Jumlah Segitiga pada gambar disamping adalah

Jumlah Jajargenjang pada gambar disamping adalah

Jumlah persegi pada gambar disamping adalah