 Manahej	Département de Sciences	Évaluation 1 : Les plantes.
	Nom:	
	EB 1:	

Exercice 1:

A. Glisse chaque partie de l'arbre au bon endroit. (2.5pt)


Le fruit

Les racines

La branche

La feuille

Le tronc



Document 1 : Un arbre.

B. Indique La bonne réponse. (3pts)

1. Les racines se trouvent dans :

le sol

l'air

2. La feuille se trouve dans :

le sol

l'air

3. La branche se trouve dans :

le sol

l'air

Exercice 2 :


Relie la figure de chaque plante à son nom. (1.5pt)



●



●



●

●
Une fleur


●
Un arbre

●
Un arbuste

Exercice 3 :

A. Glisse chaque partie pour obtenir une plante. (3pts)

Document 2 : Une plante.



B. Indique la bonne réponse :

La plante ci-dessus est :

un arbre

une fleur