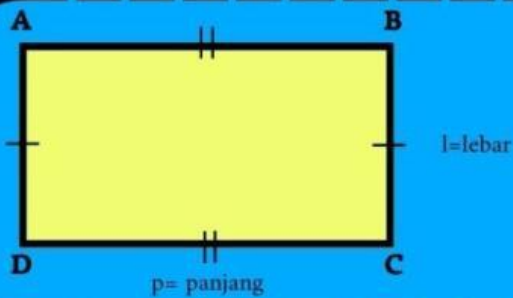




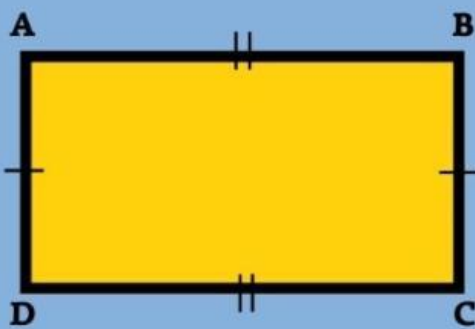
## Mari mencoba

Kejakan soal di bawah ini dengan benar!



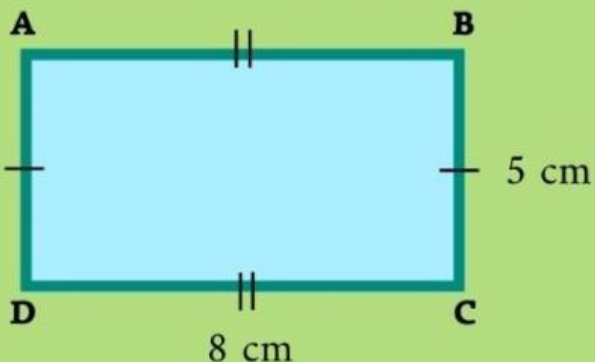
Perhatikan gambar persegi panjang ABCD di samping, lengkapi titik dengan jawaban yang tepat!

Luas = DC x .....



Jika diamati dari gambar disamping, bagaimanakah rumus luas persegi panjang? lengkapi titik-titik untuk menjawab!

Luas = ..... x .....



Kerjakan soal berikut!

L = ..... x .....

L = ..... x .....

L = .....  $\text{cm}^2$

Klik disini untuk  
mengirim jawaban

