

## Lembar Kegiatan Peserta Didik 1

### Unsur-Unsur Lingkaran

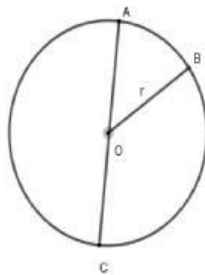
Nama : .....

Tujuan Pembelajaran: Setelah mengerjakan LKPD ini, peserta didik dapat mengingat kembali unsur-unsur lingkaran

Petunjuk :

- Kerjakan LKPD-1 secara mandiri.
- Ingatlah kembali materi unsur-unsur lingkaran yang pernah dipelajari di SD.
- Tuliskan unsur lingkaran sesuai nama yang diberikan.

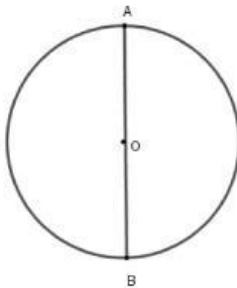
Perhatikan gambar-gambar berikut!



Titik O disebut ....

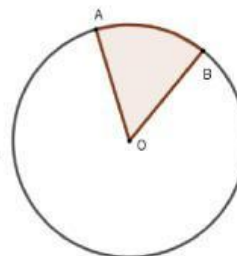
$\overline{OB}$  disebut ....

$\overline{AC}$  disebut ....



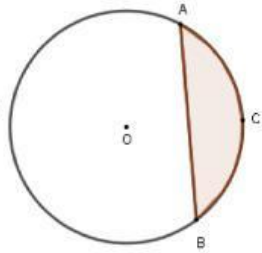
$\overline{AB}$  disebut ....

$\widehat{AB}$  disebut ....



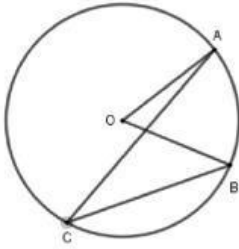
Daerah  $AOB$  disebut ....





Daerah  $ACBA$  disebut ....

Untuk unsur lingkaran berupa sudut, coba perhatikan gambar berikut.



$\angle AOB$  disebut ....

$\angle ACB$  disebut ....