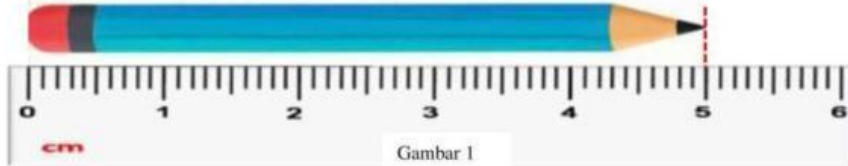


UTS GENAP 2024/2025

NAMA :

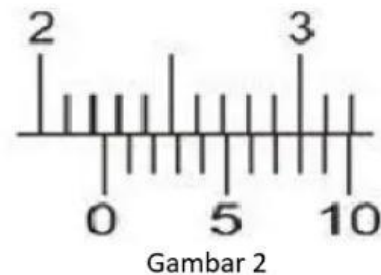
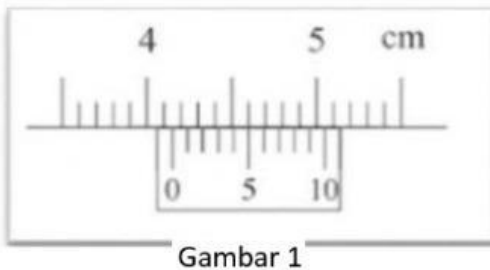
KELAS :

1. Amati pengukuran empat pensil yang berbeda berikut, dan tuliskan hasilnya!




- a) Hasil pengukuran pada gambar 1 adalah ..... cm  
b) Hasil pengukuran pada gambar 2 adalah ..... cm

2. Amati pengukuran dengan Jangka sorong berikut ini



- a) Hasil pengukuran pada gambar 1 adalah:  
SU = .....cm  
SN = ..... cm  
Hasil Pengukuran = .....cm  
b) Hasil pengukuran pada gambar 2 adalah:  
SU = .....cm  
SN = ..... cm  
Hasil Pengukuran = .....cm

3. Amati pengukuran dengan mikrometer sekrup berikut ini



- c) Hasil pengukuran pada gambar 1 adalah:  
SU = .....mm  
SN = ..... mm  
Hasil Pengukuran = .....mm
- d) Hasil pengukuran pada gambar 2 adalah:  
SU = .....mm  
SN = ..... mm  
Hasil Pengukuran = .....mm

4. Berapakah kecepatan 144 km/jam jika dinyatakan dalam m/s?  
= .....

5. Tuliskan notasi ilmiah dari bilangan berikut ini:

- a. 21.000.000 = ..... X 10<sup>.....</sup>  
b. 10.006 = ..... X 10<sup>.....</sup>  
c. 0,000004 = ..... X 10<sup>.....</sup>

6. Berapa jumlah angka penting dari angka-angka berikut ini:

- a. 22,5 = .....  
b. 500 = .....  
c. 20,05 = .....  
d. 0,0025 = .....  
e. 200 = .....

"Belajar memang sangat melelahkan,  
namun akan lebih melelahkan lagi jika  
saat ini kamu tidak pernah belajar."