

1

ORGANIZA LA INFORMACIÓN, ELIGE LA OPERACIÓN Y RESPONDE A LA PREGUNTA

Cada paquete de galletas pesa 260 g ¿Cuánto pesan todos los paquetes juntos?



¿Qué tres cosas se relacionan en el problema?

¿Qué me dan y qué me piden?

- Número de partes →
- Valor de cada parte →
- Total →

→

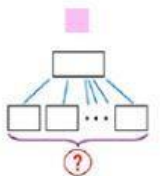
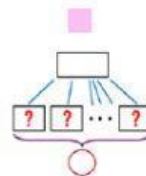
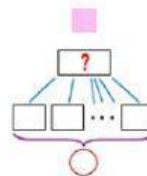
→

→

Multiplicación

☐

División

☐


Elije

Respuesta:

