

 อ่านน้ำหนักของสิ่งของและเติมคำตอบ



มะม่วงหนัก _____ กิโลกรัม 3 กิโลกรัม 7 กิโลกรัม 9 กิโลกรัม 2 กิโลกรัม
ขีด ขีด ขีด ขีด ขีด

เขียน ✓ หน้าข้อความที่ถูกต้อง เขียน ✗ หน้าข้อความที่ผิด

- _____ 1. มะม่วง เบากว่า 3 กิโลกรัม 7 กิโลกรัม
- _____ 2. มะม่วงหนักเท่ากับ 2 กิโลกรัม
- _____ 3. 3 กิโลกรัม เบากว่า 9 กิโลกรัม 2 กิโลกรัม
- _____ 4. 3 กิโลกรัมหนักกว่า 2 กิโลกรัม 7 กิโลกรัม
- _____ 5. มะม่วง เบากว่า 2 กิโลกรัม 9 กิโลกรัม
- _____ 6. 3 กิโลกรัมหนักกว่า 9 กิโลกรัม 2 กิโลกรัม

เติมคำตอบ

ให้



หนัก 4 ชีด

ขนมปัง



หนักกว่า


เค้ก



7 ชีด


ขนมปัง

ดังนั้น เค้กหนัก _____ ชีด



เบากว่า

คุกกี้



5 ชีด

เค้ก

ดังนั้น คุกกี้หนัก _____ ชีด

_____ หนักที่สุด

_____ เบาที่สุด

👁️ ตรวจสอบความเข้าใจ

โยงเส้นจับคู่ เปรียบเทียบน้ำหนัก และเติมคำตอบ

15 ชีด

7 ชีด

4 ชีด



มะละกอ

แตงโม

ขีด

แตงโม

แก้วมังกร

ขีด

แก้วมังกร

มะละกอ

ขีด

หนักที่สุด

เบาที่สุด



สิ่งที่ได้เรียนรู้

การเปรียบเทียบน้ำหนักของสิ่งของ 2 สิ่ง
เป็นการบอกว่าสิ่งใดหนักเท่ากัน หนักกว่ากัน
หรือเบากว่ากันอยู่เท่าไร อาจมีหน่วยเป็นขีด



แบบฝึกหัด 7.7

เติมคำตอบและตอบคำถาม




ข้าวโพดหนัก ชีด ผักบุ้งหนัก ชีด ไก่หนัก ชีด เห็ดหนัก ชีด ปลาหนัก ชีด


ปลาเบากว่าไก่ 3 ชีด ปลาหนักเท่าไร



ถ้าจะซื้อของ 2 อย่าง ให้ได้น้ำหนักรวม 10 ชีด จะซื้ออะไรได้บ้าง



ถ้าจะซื้อของ 3 อย่าง ให้ได้น้ำหนักรวม 10 ชีด จะซื้ออะไรได้บ้าง





ตรวจสอบความเข้าใจ

แสดงวิธีหาคำตอบ

คำตอบควรหนักกว่าหรือเบากว่าเท่าไร



- 1 ปลาตัวเล็กกับปลาตัวใหญ่หนักรวมกัน 8 ชีด ปลาตัวเล็กหนัก 3 ชีด
ปลาตัวใหญ่หนักกี่ชีด




ตอบ ปลาตัวใหญ่หนัก _____ ชีด

- 2 แม่นำข้าวสารไปบริจาค 4 กิโลกรัม เหลือข้าวสาร 11 กิโลกรัม
เดิมแม่มีข้าวสารกี่กิโลกรัม



บริจาค 4 กิโลกรัม

ข้าวสาร 11 กิโลกรัม



ตอบ เดิมแม่มีข้าวสาร _____ กิโลกรัม

สิ่งที่ได้เรียนรู้

การแก้โจทย์ปัญหาทำได้โดย อ่านทำความเข้าใจปัญหา

วางแผนแก้ปัญหา หาคำตอบ และตรวจสอบความสมเหตุสมผล



 แบบฝึกหัด 7.9