

### SOAL PILIHAN GANDA

1. Gambaran sebagian atau seluruhnya dari permukaan bumi pada bidang datar adalah....
  - a. Globe
  - b. Peta
  - c. Gambar
  - d. Skala
2. Manakah yang bukan komponen peta.....
  - a. Legenda
  - b. Peta Tematik
  - c. Inset Peta
  - d. Simbol titik

### SOAL ISIAN SINGKAT

1. Pokok arah mata angin ada..... arah mata angin.
2. Perbandingan antara jarak pada peta dengan jarak sebenarnya adalah.....

### SOAL DROP DOWN

1. Gambar dibawah ini termasuk dalam simbol.....



### SOAL CHECK BOX

1. Manakah yang biasanya dinyatakan dalam simbol area pada legenda peta.....

SUNGAI

DANAU

BATAS NEGARA

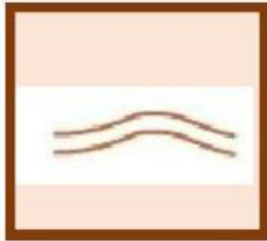
JALAN RAYA

### SOAL JOIN ARROW (MENJODOHKAN)

1. Pasangkan gambar dengan nama symbol garis dibawah ini dengan tepat!



JALAN RAYA



SUNGAI




BATAS NEGARA

### SOAL DRAG AND DROP


1. Pasangkan gambar dengan nama symbol kenampakan alam dibawah ini!



GUNUNG



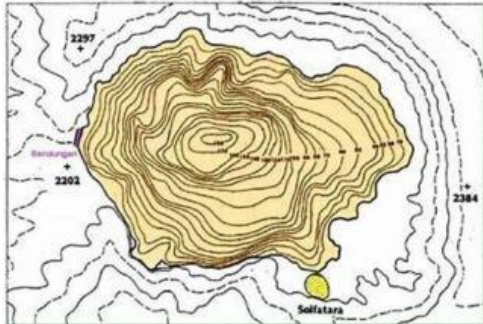
RAWA



DANAU

### SOAL LISTENING

1. Apakah nama peta dibawah ini?



BENAR

SALAH

### SOAL SPEAKING

1. Gambar peta apakah di bawah ini?



### SOAL SEARCH WORD

Carilah 5 komponen peta !

